

**4° PRIMARIA
ESPAÑOL**

**Martes 13 de enero del 2026
Matemáticas**

Tarea: Imprimir y resolver la tabla del 9, pegar la hoja en el cuaderno de matemáticas y colorear el dibujo

NOTA: Favor de poner fecha a todas las hojas de las tareas (sin abreviar), se revisará la letra, ortografía, orden y limpieza; poner en color rojo las letras mayúsculas y signos de puntuación en todas las materias.

La tabla del 9

$$1 \times 9 = 9$$

$$2 \times 9 = 18$$

$$3 \times 9 = 27$$

$$4 \times 9 = 36$$

$$5 \times 9 = 45$$

$$6 \times 9 = 54$$

$$7 \times 9 = 63$$

$$8 \times 9 = 72$$

$$9 \times 9 = 81$$

$$10 \times 9 = 90$$

Observa la tabla del 9. Luego colorea en este recuadro las casillas en las que aparecen los resultados de la tabla del 9. Ya hemos empezado nosotros...

1	2	3	4	5	6	7	8	9	10
11	12	13	14	15	16	17	18	19	20
21	22	23	24	25	26	27	28	29	30
31	32	33	34	35	36	37	38	39	40
41	42	43	44	45	46	47	48	49	50
51	52	53	54	55	56	57	58	59	60
61	62	63	64	65	66	67	68	69	70
71	72	73	74	75	76	77	78	79	80
81	82	83	84	85	86	87	88	89	90
91	92	93	94	95	96	97	98	99	100



Miércoles 14 de enero del 2026
Matemáticas

Tarea: Imprimir y resolver los ejercicios como se indica, pegar la hoja en el cuaderno de matemáticas, colorear como se indica

NOTA: Favor de poner fecha a todas las hojas de las tareas (sin abreviar), se revisará la letra, ortografía, orden y limpieza; poner en color rojo las letras mayúsculas y signos de puntuación en todas las materias

La tabla del 2

Azul $2 \times 1 = \dots$	Naranja $2 \times 2 = \dots$	Rosa $2 \times 3 = \dots$	Beige $2 \times 4 = \dots$
Negro $2 \times 5 = \dots$	Café $2 \times 6 = \dots$ $2 \times 7 = \dots$	Amarillo $2 \times 8 = \dots$ $2 \times 9 = \dots$	Morado $2 \times 10 = \dots$

Jueves 15 de enero del 2026
Matemáticas

Tarea: Imprimir y resolver los ejercicios como se indica, pegar la hoja en el cuaderno de matemáticas, colorear los dibujos

NOTA: Favor de poner fecha a todas las hojas de las tareas (sin abreviar), se revisará la letra, ortografía, orden y limpieza; poner en color rojo las letras mayúsculas y signos de puntuación en todas las materias.

Dibuja lo que se te pide y responde

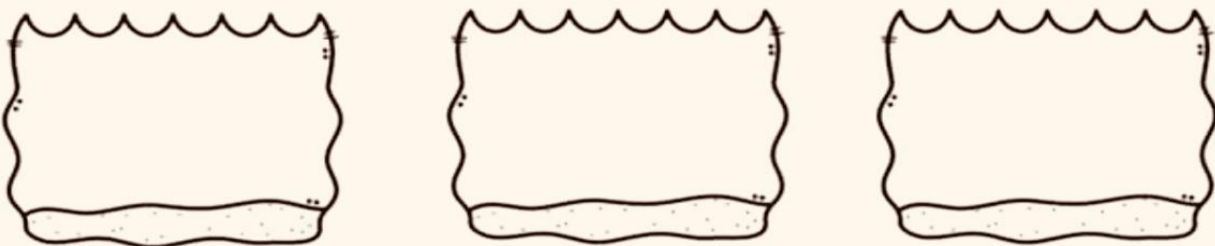
4 carritos y en cada carrito 3 frutas. Son
_____ frutas.



5 bolsas y en cada bolsa 6 canicas. Son _____
canicas.



3 peceras y en cada pecera 5 peces. Son
_____ peces.



Viernes 16 de enero del 2026
Matemáticas

Tarea: Imprimir y resolver los ejercicios como se indica, pegar la hoja en el cuaderno de matemáticas, colorea como se indica

NOTA: Favor de poner fecha a todas las hojas de las tareas (sin abreviar), se revisará la letra, ortografía, orden y limpieza; poner en color rojo las letras mayúsculas y signos de puntuación en todas las materias.

Las tablas del 2 y 3



Beige

$$2 \times 9 = \dots$$

$$2 \times 10 = \dots$$

Amarillo

$$3 \times 3 = \dots$$

$$3 \times 5 = \dots$$

Azul

$$3 \times 9 = \dots$$

$$3 \times 10 = \dots$$

Morado

$$2 \times 1 = \dots$$

$$2 \times 2 = \dots$$

Verde limón

$$2 \times 3 = \dots$$

$$2 \times 4 = \dots$$

Naranja

$$2 \times 5 = \dots$$

$$2 \times 6 = \dots$$

Rosa

$$2 \times 7 = \dots$$

$$2 \times 8 = \dots$$

4° PRIMARIA COMPUTACIÓN

Martes 13 de enero del 2026

Tarea: Copia en tu cuaderno o imprime y pega la siguiente actividad.

Selecciona el tipo de conexión que utilizas para llevar a cabo las siguientes actividades; puedes elegir más de una opción.

	Wifi	Red alámbrica
Investigaciones para trabajos escolares	<input type="checkbox"/>	<input type="checkbox"/>
Consulta de redes sociales	<input type="checkbox"/>	<input type="checkbox"/>
Envío de mensajes instantáneos	<input type="checkbox"/>	<input type="checkbox"/>
Actualización de dispositivos inteligentes	<input type="checkbox"/>	<input type="checkbox"/>
Descarga de archivos de gran tamaño	<input type="checkbox"/>	<input type="checkbox"/>
Navegación desde televisores inteligentes	<input type="checkbox"/>	<input type="checkbox"/>

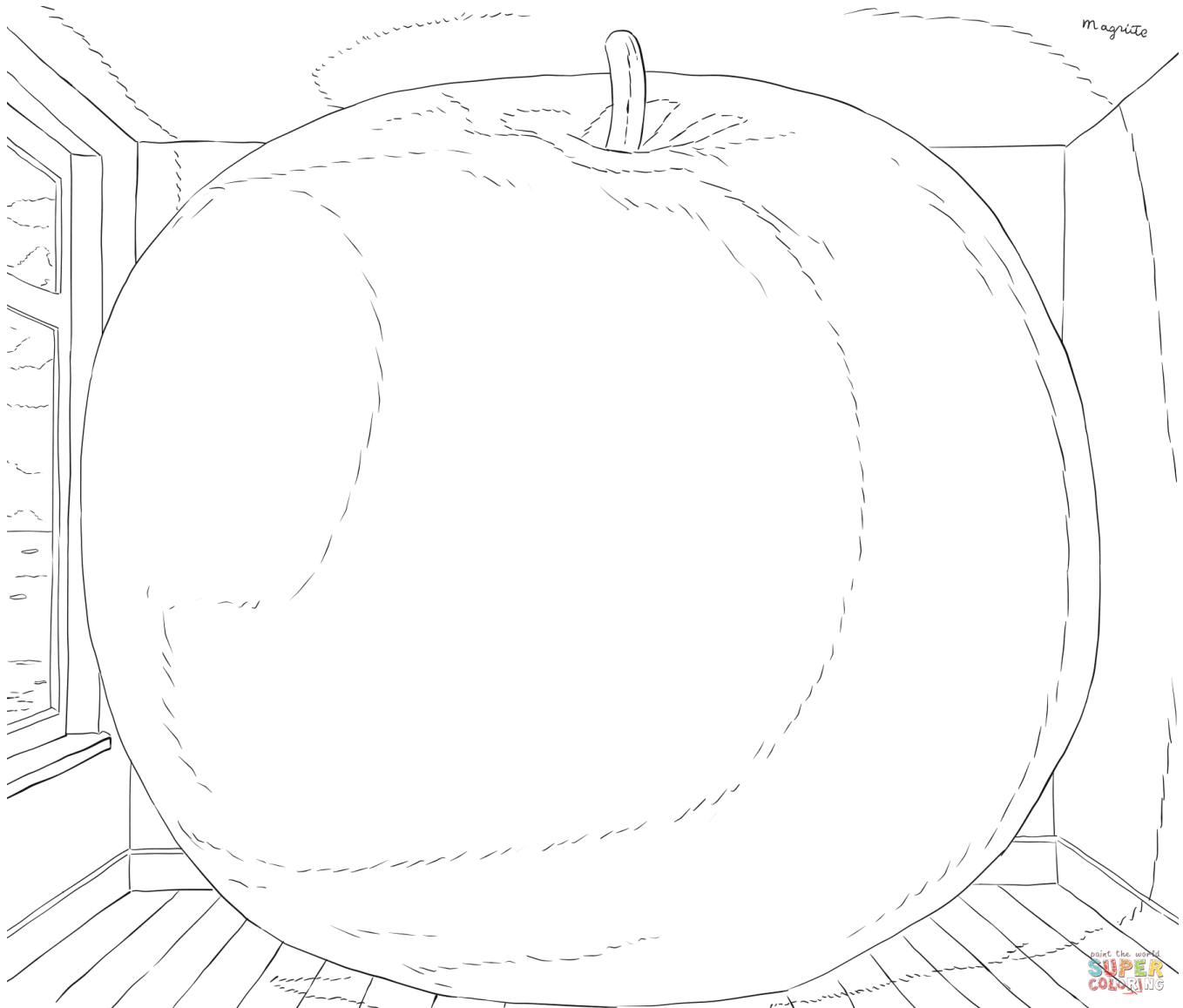
NOTA: Favor de poner fecha a todas las hojas de las tareas (sin abreviar), se revisará la letra, ortografía, orden y limpieza; poner en color rojo las letras mayúsculas y signos de puntuación.

**4° PRIMARIA
ARTES**

Martes 13 de enero del 2026

Tarea: Colorear con tramado y puntos.

Colorea la siguiente imagen con los tramados y de la manera que vimos en clase.



NOTA: Favor de poner fecha a todas las hojas de las tareas (sin abreviar), se revisará la letra, ortografía, orden y limpieza; poner en color rojo las letras mayúsculas y signos de puntuación.

**4TH GRADE
ENGLISH**

Tuesday, January 13th 2025

Homework

Awesome Reader page 88: Connect to Me activity 2 - Draw pictures to represent the feelings in the boxes.

Wednesday, January 14th 2025

Homework

Complete the following worksheet and paste it in your notebook.



1. Look and complete with the fairy tale characters and their belongings.

Fairy Tale Characters

dwarf
elf
fairy
troll
witch
wizard

Fairy Tale Belongings

broomstick
cauldron
cloak
club
hat
wand

1. _____	2. _____	3. _____
		
This fairy tale character stirs magical potions in her big _____. She doesn't use her _____ to clean. She uses it to fly!	This tiny fairy tale character lives in a garden. She has wings to help her fly. She always carries her magic _____.	This fairy tale character is short and strong. He often wears a _____ and uses a shovel to dig for gold and treasure.
4. _____	5. _____	6. _____
		
This character wears a pointed _____. He has a _____ for doing magic.	This character is big, ugly and mean. He uses his _____ to smash things.	This fairy tale character wears a _____ and can do magic.

Thursday January 15th 2025

Homework

Awesome Reader page 88: Connect to Art 1 - Draw a self portrait in your notebook.

Friday January 16th 2025

Homework

Be a maths Master: Page 29: Answer activities number 4, 5 and 6.