

Tarea Puntos Extras
Español
Lunes 3 de Marzo del 2025

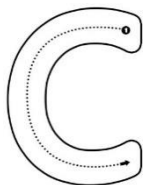
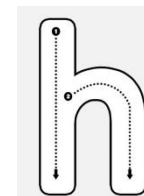
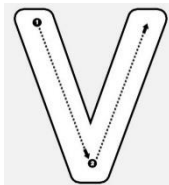
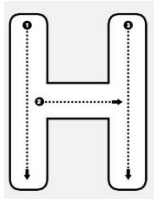
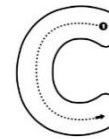
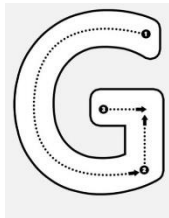
Tarea:

Imprimir o dibujar la actividad, trabaja en tu cuaderno en el apartado de tareas. Favor de escribir fecha y nombre en cada tarea.

Traza las consonantes mayúsculas con rojo, minúsculas con azul y une como corresponde.

Escribe tu primer nombre recuerda mayúscula con rojo.

Mi nombre es:



Tarea Puntos Extras
Lectura
Lunes 3 de Marzo del 2025

Tarea:

Imprimir o dibujar la actividad, trabaja en tu cuaderno en el apartado de tareas. Favor de escribir fecha y nombre en cada tarea.

Con ayuda de mamá o papá lee con atención, ilumina la respuesta correcta.
Escribe tu primer nombre recuerda mayúscula con rojo.

Mi nombre es:

El gatito hambriento

Una noche muy fria, un gatito negro llegó a la casa de Carlos.
El se sentó aún lado de la puerta y maulló. Carlos lo oyó, el abrió la puerta. El gatito se metió corriendo a la casa y se escondió debajo del sofá. Estaba hambriento.

La mamá de Carlos le dio leche. El gatito se tomó toda la leche y luego se fue a dormir.

1.- ¿Quién llegó a la casa de Carlos?



león



gato



perro

2.- ¿En donde se sentó el gatito?



ventana



baño



puerta

3.- ¿Quién le abrió la puerta?



Carlos



Cristóbal



Cristian

4.- ¿Quién le dio leche al gato?



tía



mamá



amiga

Tarea Puntos Extras
Matemáticas
Miércoles 5 de Marzo del 2025

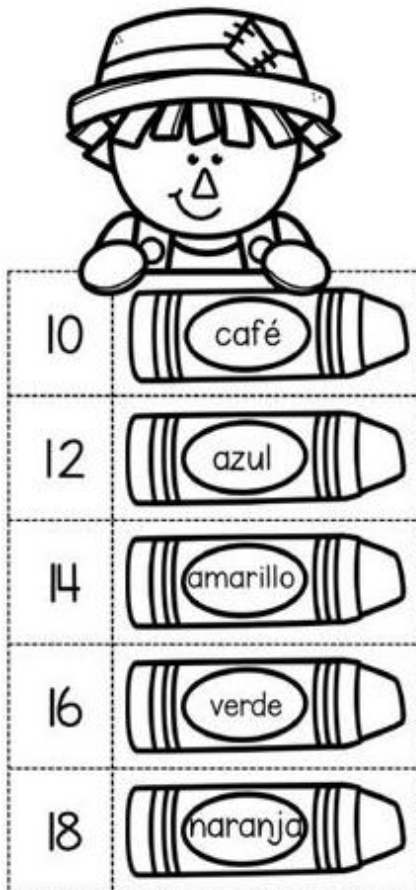
Tarea:






Imprimir o dibujar la actividad, trabaja en tu cuaderno en el apartado de tareas. Favor de escribir fecha y nombre en cada tarea.

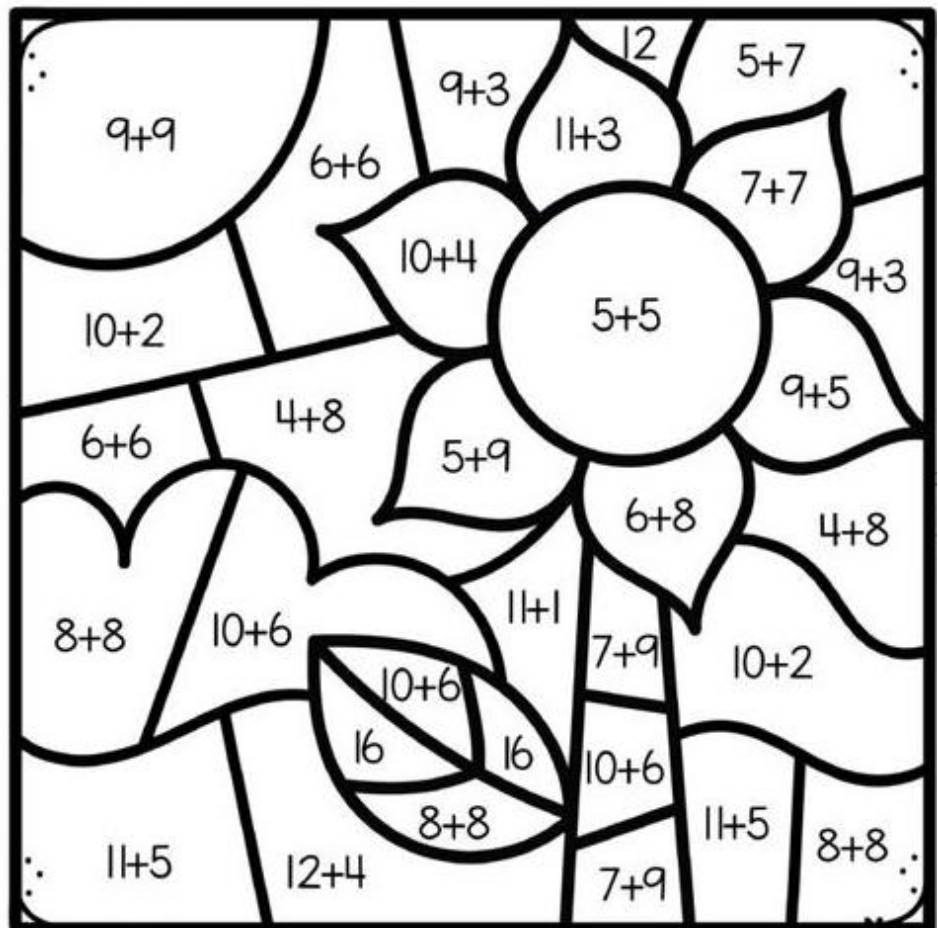
1.- Resuelve las sumas e ilumina como te indica

Escribe tu primer nombre recuerda mayúscula con rojo.

Mi nombre es:




10	
12	
14	
16	
18	



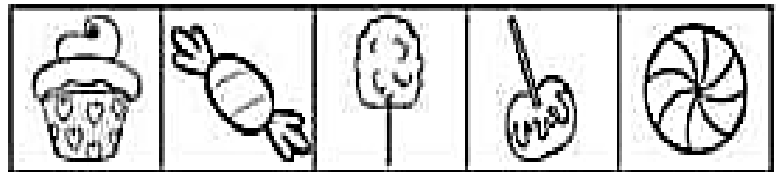
Math problems in the flower illustration:

- Petal 1: $9+9$
- Petal 2: $6+6$
- Petal 3: $9+3$
- Petal 4: $11+3$
- Petal 5: $5+7$
- Petal 6: $7+7$
- Petal 7: $10+4$
- Petal 8: $9+3$
- Petal 9: $5+5$
- Petal 10: $9+5$
- Petal 11: $6+6$
- Petal 12: $4+8$
- Petal 13: $5+9$
- Petal 14: $6+8$
- Petal 15: $4+8$
- Petal 16: $8+8$
- Petal 17: $10+6$
- Petal 18: $11+1$
- Petal 19: $7+9$
- Petal 20: $10+2$
- Petal 21: $10+6$
- Petal 22: 16
- Petal 23: 16
- Petal 24: $10+6$
- Petal 25: $8+8$
- Petal 26: $11+5$
- Petal 27: $11+5$
- Petal 28: $8+8$
- Petal 29: $11+5$
- Petal 30: $12+4$
- Petal 31: $7+9$
- Petal 32: $8+8$

2.- Pinta un cuadro por cada dulce que hay en la imagen



5					
4					
3					
2					
1					



**PREE 3
ENGLISH**

Tuesday, March 4th, 2025

Review Activity

Draw on your English notebook, in the homework section the following school staff: Teacher, principal, janitor and nurse (dibuja en tu cuaderno al siguiente personal de la escuela: maestra, directora, conserje y enfermera). The title is: School Staff (el título es: School Staff).

Additional Resources:













- Memory game: School staff (personal de la escuela): <https://wordwall.net/play/28386/606/693>

Review Activity

Print or draw on your English notebook, in the homework section the following picture, circle the correct answer (encierra la respuesta correcta).

- Top- arriba
- Middle- medio
- Bottom- abajo

Top, Middle and Bottom

<p>What is in the middle ?</p> <div style="display: flex; flex-direction: column; align-items: center;"> <div style="border: 1px solid black; width: 100%; height: 100%; text-align: center; margin-bottom: 5px;"></div> <div style="border: 1px solid black; width: 100%; height: 100%; text-align: center; margin-bottom: 5px;"></div> <div style="border: 1px solid black; width: 100%; height: 100%; text-align: center;"></div> </div>	<p>What is at the bottom ?</p> <div style="display: flex; flex-direction: column; align-items: center;"> <div style="border: 1px solid black; width: 100%; height: 100%; text-align: center; margin-bottom: 5px;"></div> <div style="border: 1px solid black; width: 100%; height: 100%; text-align: center; margin-bottom: 5px;"></div> <div style="border: 1px solid black; width: 100%; height: 100%; text-align: center;"></div> </div>
<p>What is at the top ?</p> <div style="display: flex; flex-direction: column; align-items: center;"> <div style="border: 1px solid black; width: 100%; height: 100%; text-align: center; margin-bottom: 5px;"></div> <div style="border: 1px solid black; width: 100%; height: 100%; text-align: center; margin-bottom: 5px;"></div> <div style="border: 1px solid black; width: 100%; height: 100%; text-align: center;"></div> </div>	<p>What is in the middle ?</p> <div style="display: flex; flex-direction: column; align-items: center;"> <div style="border: 1px solid black; width: 100%; height: 100%; text-align: center; margin-bottom: 5px;"></div> <div style="border: 1px solid black; width: 100%; height: 100%; text-align: center; margin-bottom: 5px;"></div> <div style="border: 1px solid black; width: 100%; height: 100%; text-align: center;"></div> </div>

Additional Resources:

- Video: Top, middle and bottom (arriba, medio y abajo): <https://www.youtube.com/watch?v=JONQzCeBhAM>