


Lunes 1 de julio del 2024
Lengua materna

NOTA: Recuerda que tus tareas deben llevar fecha del día que se está encargando y tu nombre.
TAREA: Imprime la siguiente lectura de comprensión, lee y contesta las preguntas que se te hacen.



Los océanos



El agua cubre aproximadamente el 75% de la Tierra. Los océanos contienen la mayor parte de agua del planeta. Hay tres grandes océanos: el Atlántico, el Índico y el Pacífico, y también dos océanos menores: el Ártico y el Antártico.

Los océanos son muy profundos, pueden llegar hasta los 10.000 metros de profundidad. La temperatura del agua oceánica es normalmente menor de 12°C. Las profundidades del océano son más frías y no están iluminadas, pues la luz del Sol no llega hasta allí.

En el océano viven muchos animales. La mayor parte de peces e invertebrados conocidos viven en los océanos de la tierra. Aún no se conoce cómo se formaron los océanos, los científicos creen que fue a causa del choque de un meteorito con la Tierra.



Contesta las preguntas

1. ¿Cuántos océanos hay en total?

- a. tres
- b. dos
- c. cuatro
- d. cinco

3. Los océanos _____.

- a. son muy profundos
- b. suelen estar por debajo de 12°C
- c. están llenos de animales
- d. todos los anteriores

2. El océano Índico _____.

- a. es un océano grande
- b. es un océano menor
- c. no existe
- d. es un río grande

4. ¿Qué animales viven en los océanos?

- a. peces e invertebrados
- b. sólo mamíferos
- c. sólo insectos
- d. sólo réptiles

TAREA: Imprime o transcribe en tu cuaderno matemáticas, las siguientes sumas con punto decimal y resuelve.

NOTA: Resuelve las siguientes sumas utilizando el cronómetro en 2 minutos.

$$\begin{array}{r} + 175.12 \\ 395.21 \\ \hline \end{array}$$

$$\begin{array}{r} + 772.15 \\ 695.42 \\ \hline \end{array}$$

$$\begin{array}{r} + 856.25 \\ 412.42 \\ \hline \end{array}$$

$$\begin{array}{r} + 156.1 \\ 523.23 \\ \hline \end{array}$$

$$\begin{array}{r} + 45.15 \\ 542.26 \\ \hline \end{array}$$

$$\begin{array}{r} + 128.12 \\ 236.4 \\ \hline \end{array}$$

$$\begin{array}{r} + 156.15 \\ 256.42 \\ \hline \end{array}$$

$$\begin{array}{r} + 325.12 \\ 572.43 \\ \hline \end{array}$$

$$\begin{array}{r} + 325.12 \\ 572.43 \\ \hline \end{array}$$

Nota: Coloca el punto decimal con tu color rojo.

TAREA: Realiza un texto de una cuartilla, sobre la importancia del cuidado del agua, incluye un dibujo y coloréalo.

NOTA: Trata de hacer la mejor letra posible y utiliza tu color rojo para acentos y signos de puntuación.

Jueves 4 de julio del 2024
Matemáticas

TAREA: Transcribe en tu cuaderno matemáticas, las siguientes multiplicaciones con punto decimal y resuelve.

APOYO: <https://youtu.be/KeCjZW6d35c?si=619lf7IHkMmwIFWU>

EJERCICIOS

Contesta correctamente cada una de las siguientes multiplicaciones con punto decimal

A

$$\begin{array}{r} 256 \\ \times 3.56 \\ \hline \end{array}$$

B

$$\begin{array}{r} 2114 \\ \times .12 \\ \hline \end{array}$$

C

$$\begin{array}{r} 4.27 \\ \times 89 \\ \hline \end{array}$$

D

$$\begin{array}{r} 7.458 \\ \times 16 \\ \hline \end{array}$$

TAREA: Imprime o transcribe en tu cuaderno las siguientes fracciones, en donde tendrás que simplificarlas (reducir la fracción) como se te enseñó en clase.

NOTA: Si tienes alguna duda ve a tu cuaderno trabajo clase.

APOYO: <https://youtu.be/HUpOu8k327U?si=dfIWkD27N-Y9kRqS>

EJERCICIOS

Reduce cada una de las siguientes fracciones.

A $\frac{99}{36}$

B $\frac{66}{81}$

C $\frac{96}{108}$

D $\frac{45}{75}$

E $\frac{75}{105}$

F $\frac{144}{360}$

**4TH GRADE
ENGLISH**

Monday July 1st, 2024

Homework

Complete exercise 3 of page 154 of your Learning Log.

Additional Resource:

- <https://www.thesaurus.com>

Tuesday July 2nd, 2024

Homework

Complete exercise 4 of page 157 of your Learning Log.

Wednesday July 3rd, 2024

Homework

Write your own story on exercise 5 of page 159 of your Learning Log. Don't forget to use proper capitalization and punctuation.

Thursday July 4th, 2024

Homework

Research what is celebrated today in the United States of America. Write information about it in your notebook, and make a drawing of it using colors. Don't forget to use proper capitalization and punctuation.

Friday July 5th, 2024

Homework

Complete exercise 4 of page 161 of your Learning Log.