

**Matemáticas**  
**Lunes 24 de junio del 2024**

**Tareas:**

Realiza las sumas.

**Nota:** Escribe fecha y nombre completo a tu tarea

$$\begin{array}{r} 534 \\ + 435 \\ \hline \end{array}$$

$$\begin{array}{r} 758 \\ + 587 \\ \hline \end{array}$$

$$\begin{array}{r} 124 \\ + 412 \\ \hline \end{array}$$

$$\begin{array}{r} 715 \\ + 571 \\ \hline \end{array}$$

$$\begin{array}{r} 745 \\ + 547 \\ \hline \end{array}$$

$$\begin{array}{r} 106 \\ + 610 \\ \hline \end{array}$$

$$\begin{array}{r} 874 \\ + 847 \\ \hline \end{array}$$

$$\begin{array}{r} 681 \\ + 186 \\ \hline \end{array}$$

$$\begin{array}{r} 241 \\ + 412 \\ \hline \end{array}$$

$$\begin{array}{r} 602 \\ + 260 \\ \hline \end{array}$$

$$\begin{array}{r} 187 \\ + 871 \\ \hline \end{array}$$

$$\begin{array}{r} 365 \\ + 635 \\ \hline \end{array}$$

$$\begin{array}{r} 494 \\ + 946 \\ \hline \end{array}$$

$$\begin{array}{r} 812 \\ + 218 \\ \hline \end{array}$$

$$\begin{array}{r} 789 \\ + 897 \\ \hline \end{array}$$

$$\begin{array}{r} 343 \\ + 436 \\ \hline \end{array}$$

**Matemáticas**  
**Lunes 24 de junio del 2024**

**Tareas:**

Realiza las restas.

**Nota:** Escribe fecha y nombre completo a tu tarea.

$$\begin{array}{r} 335 \\ - 180 \\ \hline \end{array}$$
$$\begin{array}{r} 962 \\ - 680 \\ \hline \end{array}$$
$$\begin{array}{r} 880 \\ - 473 \\ \hline \end{array}$$
$$\begin{array}{r} 698 \\ - 209 \\ \hline \end{array}$$

$$\begin{array}{r} 754 \\ - 296 \\ \hline \end{array}$$
$$\begin{array}{r} 508 \\ - 316 \\ \hline \end{array}$$
$$\begin{array}{r} 429 \\ - 180 \\ \hline \end{array}$$
$$\begin{array}{r} 791 \\ - 403 \\ \hline \end{array}$$

$$\begin{array}{r} 830 \\ - 521 \\ \hline \end{array}$$
$$\begin{array}{r} 608 \\ - 321 \\ \hline \end{array}$$
$$\begin{array}{r} 240 \\ - 193 \\ \hline \end{array}$$
$$\begin{array}{r} 968 \\ - 709 \\ \hline \end{array}$$

$$\begin{array}{r} 328 \\ - 129 \\ \hline \end{array}$$
$$\begin{array}{r} 633 \\ - 447 \\ \hline \end{array}$$
$$\begin{array}{r} 570 \\ - 386 \\ \hline \end{array}$$
$$\begin{array}{r} 417 \\ - 280 \\ \hline \end{array}$$




**Matemáticas**  
**Miércoles 26 de junio del 2024**

**Tareas:**

Realiza lo que se te indica.

**Nota:** Escribe fecha y nombre completo a tu tarea.

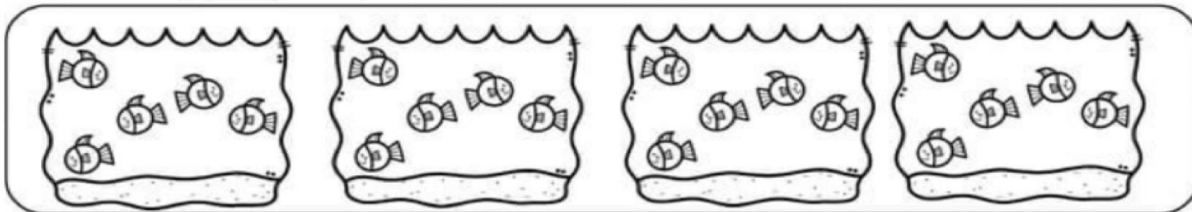
Instrucciones. Observa las imágenes y completa



$$\square + \square + \square + \square + \square + \square$$

Hay  maceteros. Cada macetero tiene  flores.

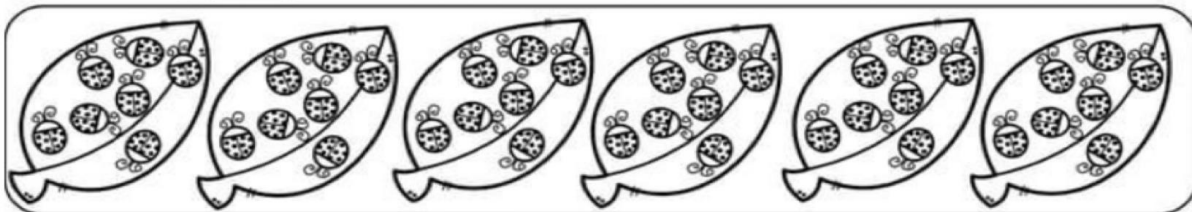
En total hay  flores.



$$\square + \square + \square + \square$$

Hay  peceras. Cada pecera tiene  peces.

En total hay  peces.



$$\square + \square + \square + \square + \square + \square$$

Hay  hojas. Cada hoja tiene  bichos.

En total hay  bichos.



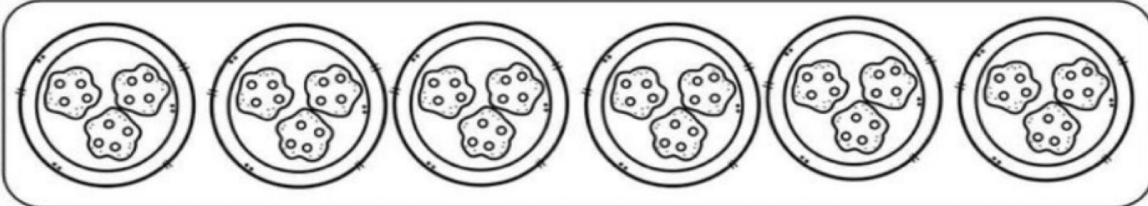
**Matemáticas**  
**Miércoles 26 de junio del 2024**

**Tareas:**

Realiza lo que se te indica.

**Nota:** Escribe fecha y nombre completo a tu tarea.

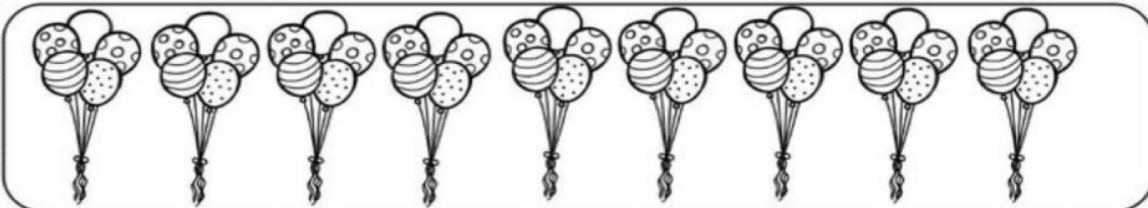
Instrucciones. Observa las imágenes y completa



$$\square + \square + \square + \square + \square + \square$$

Hay  platos. Cada plato tiene  galletas.

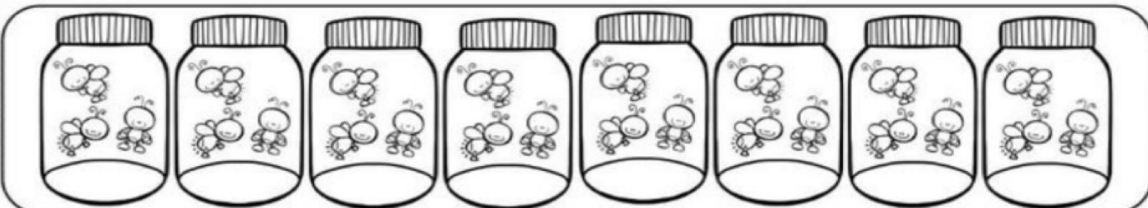
En total hay  galletas.



$$\square + \square + \square + \square + \square + \square + \square + \square + \square$$

Hay  grupos de globos. Cada grupo tiene  globos.

En total hay  globos.



$$\square + \square + \square + \square + \square + \square + \square + \square$$


Hay  frascos. Cada frasco tiene  luciérnagas.

En total hay  luciérnagas.

**1A PRIMARIA  
ENGLISH**

**Tuesday June 25th, 2024**

Answer exercise 1 of page 166 of your Learning Log, (responde el ejercicio 1 de la página 166 de tu Diario de Aprendizaje y pega el personaje favorito de tu caricatura).



**Thursday June 27th, 2024**

**Homework**

Answer exercise 1 of page 168 your Learning Log (responde el ejercicio 1 de la página 168 de tu Diario de Aprendizaje, traza y colorea).

