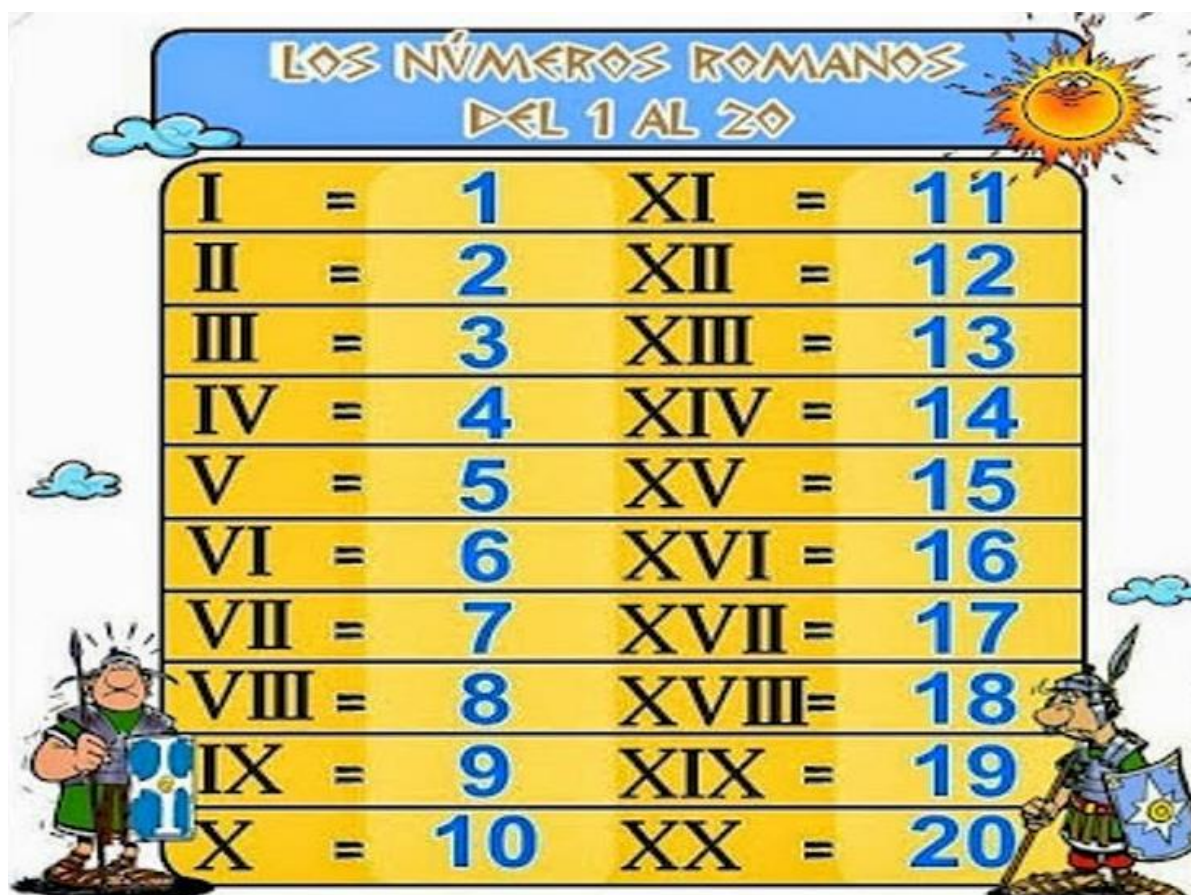


Lunes 8 de abril del 2024
Matemáticas

TAREA: Escribe en tu cuaderno los números romanos del I al XX cinco veces cada uno

NOTA: Favor de poner fecha a todas las hojas, mandar en orden las tareas, buena letra, signos de puntuación con color rojo, revisar que no se vean borrosas las actividades gracias.

APOYO:



| LOS NÚMEROS ROMANOS DEL 1 AL 20 | | | | | |
|---------------------------------|---|----|-------|---|----|
| I | = | 1 | XI | = | 11 |
| II | = | 2 | XII | = | 12 |
| III | = | 3 | XIII | = | 13 |
| IV | = | 4 | XIV | = | 14 |
| V | = | 5 | XV | = | 15 |
| VI | = | 6 | XVI | = | 16 |
| VII | = | 7 | XVII | = | 17 |
| VIII | = | 8 | XVIII | = | 18 |
| IX | = | 9 | XIX | = | 19 |
| X | = | 10 | XX | = | 20 |



TAREA: Resuelve los siguientes ejercicios, puedes hacerlos en tu cuaderno de matemáticas si gustas.

NOTA: Favor de poner fecha a todas las hojas, mandar en orden las tareas, buena letra, signos de puntuación con color rojo, revisar que no se vean borrosas las actividades gracias.

$$\begin{array}{r} 6.785 \\ \times 972 \\ \hline \end{array}$$

$$\begin{array}{r} 2.338 \\ \times 826 \\ \hline \end{array}$$

$$\begin{array}{r} 2.663 \\ \times 754 \\ \hline \end{array}$$

$$\begin{array}{r} 5.672 \\ \times 345 \\ \hline \end{array}$$

$$\begin{array}{r} 1.475 \\ \times 763 \\ \hline \end{array}$$

$$\begin{array}{r} 4.398 \\ \times 252 \\ \hline \end{array}$$

APOYO:



Multiplicación con decimales

Contemos

2 lugares
+
1 lugar

3 lugares

colecamos el punto decimal



TAREA: Resuelve los ejercicios, puedes hacerlos en tu cuaderno de matemáticas si gustas.

NOTA: Favor de poner fecha a todas las hojas, mandar en orden las tareas, buena letra, signos de puntuación con color rojo, revisar que no se vean borrosas las actividades gracias.

Problema 1

Blanca esconde 71 sacapuntas en cada una de sus 67 jarras de cristal. ¿Cuántos sacapuntas tiene Blanca?

Problema 2

Si cada uno de mis 54 gatos recorre caminando 59 metros, ¿cuántos metros han recorrido entre todos ellos?

Problema 3

Entre José María, Blanca y Pepe completan 91 álbumes de 40 cromos cada uno. ¿Cuántos cromos tienen en total?








TAREA: Resuelve los ejercicios de matemáticas, si gustas los puedes hacer en tu cuaderno de matemáticas.

NOTA: Favor de poner fecha a todas las hojas, mandar en orden las tareas, buena letra, signos de puntuación con color rojo, revisar que no se vean borrosas las actividades gracias.

Multiplicaciones 3 cifras X 4 cifras

| | | |
|---|---|---|
|  |  |  $\begin{array}{r} 117 \\ \times 3 \\ \hline \end{array}$ |
| $\begin{array}{r} 2406 \\ \times 306 \\ \hline \end{array}$ | $\begin{array}{r} 3570 \\ \times 704 \\ \hline \end{array}$ | $\begin{array}{r} 1809 \\ \times 308 \\ \hline \end{array}$ |
| $\begin{array}{r} 5498 \\ \times 805 \\ \hline \end{array}$ | $\begin{array}{r} 7021 \\ \times 106 \\ \hline \end{array}$ | $\begin{array}{r} 8708 \\ \times 207 \\ \hline \end{array}$ |
| $\begin{array}{r} 6657 \\ \times 409 \\ \hline \end{array}$ | $\begin{array}{r} 1562 \\ \times 601 \\ \hline \end{array}$ | $\begin{array}{r} 2831 \\ \times 902 \\ \hline \end{array}$ |
| $\begin{array}{r} 9046 \\ \times 704 \\ \hline \end{array}$ | $\begin{array}{r} 3905 \\ \times 805 \\ \hline \end{array}$ | $\begin{array}{r} 4134 \\ \times 503 \\ \hline \end{array}$ |



TAREA: Lee la lectura y contesta lo que se te pide.

NOTA: Favor de poner fecha a todas las hojas, mandar en orden las tareas, buena letra, signos de puntuación con color rojo, revisar que no se vean borrosas las actividades gracias.

El gigante egoísta

Todas las tardes, al volver del colegio, los niños jugaban en el jardín del gigante.

Era un jardín amplio y hermoso, con un césped suave y verde. Aquí y allá preciosas flores resaltaban sobre la hierba como si fueran estrellas. Los pájaros se posaban en los árboles y cantaban tan dulces melodías que los niños dejaban de jugar para poder escucharlos.

Un buen día el gigante regresó.

-¿Qué hacen aquí? -les gritó malhumorado, y los niños huyeron.

-Mi jardín es sólo mío -dijo el gigante-. Y no permitiré que nadie, excepto yo, juegue en él.

Así que decidió cercarlo con un muro altísimo y colgó un cartel que decía: "Prohibido la entrada"

Los niños no tuvieron dónde jugar. Terminaron yendo junto al muro que cercaba el jardín, para hablar de lo hermoso que era.

Entonces, vino la primavera y todo se llenó de flores y pajaritos. Sólo en el jardín del gigante egoísta seguía siendo invierno. Desde que no había niños dentro, a los pájaros no les gustaba ir allí a cantar y los árboles se olvidaron de florecer.

-¡No puedo comprender por qué la primavera tarda tanto en llegar! -decía el gigante egoísta ante su ventana, contemplando su jardín frío y blanco- ¡Ojalá cambie el tiempo!

Una mañana, el gigante oyó una música bellísima.

El granizo había dejado de caer y un perfume delicioso llegó hasta él por la ventana abierta.

-Creo que por fin ha llegado la primavera - observó el gigante, y saltó de la cama para asomarse. ¿Qué fue lo que vio? Un espectáculo maravilloso. Los niños habían entrado por una pequeña brecha abierta en el muro y se habían sentado en las ramas de los árboles.





Los árboles estaban tan contentos de volver a sostener niños que se cubrieron de flores. Los pájaros revoloteaban de un lado a otro piando alegremente. Las flores se asomaban y reían. Sólo en un rincón seguía siendo invierno. Allí se encontraba un niño. Era tan pequeño que no alcanzaba las ramas de los árboles y daba vueltas a su alrededor llorando amargamente. El pobre árbol estaba aún cubierto de escarcha y nieve. El corazón del gigante se ablandó al ver aquello. -¡Qué egoísta he sido! -musitó-. Ahora sé por qué la primavera no quería venir aquí. El gigante estaba arrepentido.



Cuando salió al jardín; los niños huyeron asustados y el jardín volvió a ser invernal. El único que no huyó fue el chiquitín, porque no lo había visto llegar. El gigante se acercó y lo subió al árbol, el cual floreció al instante. El niño alargó los bracitos, los echó al cuello del gigante y lo besó. Entonces los otros niños, viendo que el gigante ya no era malo, volvieron corriendo y, con ellos, entró la primavera.

Desde ese día, los niños venían a jugar todos los días con el gigante; pero al chiquitín a quien el gigante tanto quería, no se le volvió a ver.

Oscar Wilde (irlandés)

Indica con números el orden secuencial de las ilustraciones, según el texto.





Coloca en el paréntesis (V) si la oración es verdadera, (F) si es falsa.

- a. Los niños jugaban en el jardín del gigante porque éste se había quedado dormido. ()
- b. El gigante dijo que los intrusos serían castigados. ()
- c. El gigante tomaba todos los días chocolate caliente para el frío. ()
- d. El gigante oyó una música deliciosa y vio que los niños habían entrado al jardín. ()
- e. A los árboles se les cayeron las hojas de lo contentos que estaban con los niños. ()
- f. El niño pequeño se lastimó las manos y pies con las rejas del jardín. ()

¿Qué actitudes del gigante nos muestran que era egoísta?

¿Por qué decimos que la primavera es la estación más alegre?

¿Cuál crees que sea la enseñanza que nos dejó el autor con su texto?



5° PRIMARIA COMPUTACIÓN

Martes 9 de abril del 2024

Imprime y pega o copia en tu cuaderno y contesta la siguiente actividad.

Subraya la respuesta correcta

1.- ¿Cuál navegador web sueles utilizar al realizar una investigación?

Chrome

Firefox

Explorer

2.- ¿Cuál de las opciones es nula en seguridad en línea?

No actualizo mi antivirus.

No descargo archivos que me envían.

No doy mis datos a extraños.

3.-Suelo verificar la fuente de información antes de publicarla.

Sí

No

No lo sé

4.- ¿Por qué es importante un público objetivo?

Me permite saber quiénes son.

Me permite saber qué edad tienen.

Me permite saber qué idioma hablan

5.- ¿Qué es editar un sitio web?

Cambiar textos, copiar y pegar.

Crear, proponer y trabajar en equipo.

Cuestionar, investigar y proponer.

Martes 9 de abril del 2024

Tarea: Investigará y realizará en su cuaderno o en una hoja blanca el dibujo de algún edificio con una arquitectura destacada de la localidad.
Sube una imagen de tu trabajo terminado a la plataforma de tareas.

5TH GRADE HOMEWORK

Monday April 8th, 2024

Homework

Answer exercise 3 of page 169 of your Learning Log. You have read about Stonehenge and about the Grand Canyon. Choose which of them you would like to visit and explain why.

Tuesday April 9th, 2024

Homework

Answer exercise 1 of page 285 of your Learning Log. Answer the questions.

Wednesday April 10th, 2024

Homework

Answer exercise 5 of page 287 of your Learning Log. Look at the change of mediums from painting to sculpture and answer the questions.

Thursday April 11th, 2024

Homework

Answer exercise 2 of page 288 of your Learning Log. Imagine that you are a conquistador from the 16th century, and you want to create a company for the conquest of America. Answer the questions.

Friday April 12th, 2024

Homework

Answer exercise 4 of page 289 of your Learning Log. Answer the questions.