



Español
Lunes 8 de abril del 2024

Tareas:

Realiza lo que se te indica.

Nota: Escribe fecha y nombre completo a tu tarea.

1. Colorea las palabras que deberían estar escritas en mayúscula.

noche

maría

bety

jugo

barco

natalia

2. Escribe una pequeña descripción para cada personaje.





3. Escribe el nombre de los siguientes animales.




Tareas:

Realiza lo que se te indica.

Nota: Escribe fecha y nombre completo a tu tarea.

4. Resuelve el crucigrama.



5. Completa las palabras.



d _ _ _ _ n



d _ _ _ _ n



e _ _ _ _ _ e

6. Separa las oraciones correctamente.

Mimochilacargalibros.

El librero es de madera.



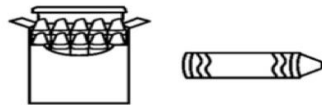
Matemáticas
Miércoles 10 de abril del 2024

Tareas:

Realiza lo que se te indica.

Nota: Escribe fecha y nombre completo a tu tarea.

En la tienda venden colores en cajas de 10 y sueltos.



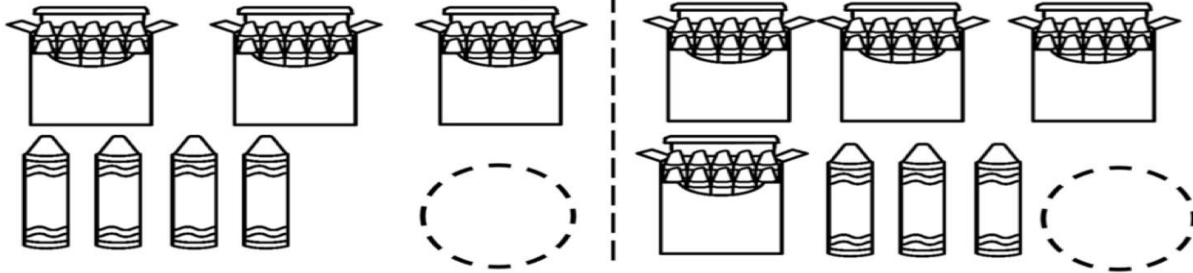
1. Mónica y Carlos querían comprar 25 colores. Mónica compró dos cajas y cinco sueltos, Carlos una caja y 15 sueltos. ¿Quién compró los 25 colores?

a) Mónica

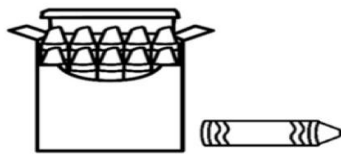
b) Carlos

c) Los dos

2. Escribe la cantidad de colores que se compraron en cada situación.
























3. Verónica quiere comprar 46 colores. Escribe dos maneras diferentes de formar esa cantidad.



Cajas	Colores sueltos

4. Sigue las series de la ranita.


Matemáticas
Miércoles 10 de abril del 2024

Tareas:

Realiza lo que se te indica.

Nota: Escribe fecha y nombre completo a tu tarea.

Observa los precios de los artículos y resuelve los problemas.



5. Beto compró la pelota y el yoyo, ¿cuánto gastó en total?

a \$45

b \$50

c \$40

6. Karina quiere la mochila y el yoyo, ¿cuánto pagará en total?

a \$70

b \$75

c \$80

7. Fíjate en el precio de cada tipo de helado y escribe la cantidad de dinero que se recauda en cada caso.



Helados	Cantidad
	
	
	

8. Mariana va a ir al dentista en dos días, si es lunes, ¿qué día tendrá que ir?

a) Miércoles

b) Jueves

c) Viernes

9. ¿Qué día es antes del domingo?

a) Sábado

b) Viernes


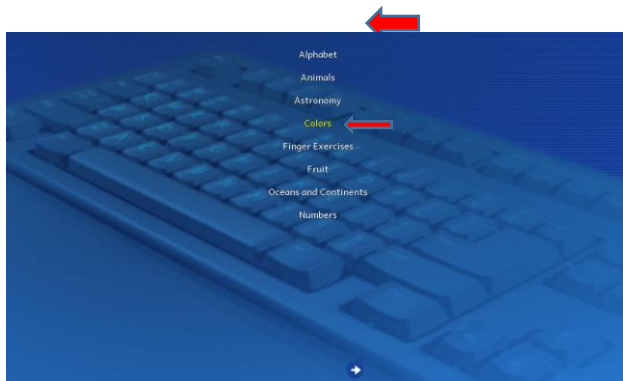
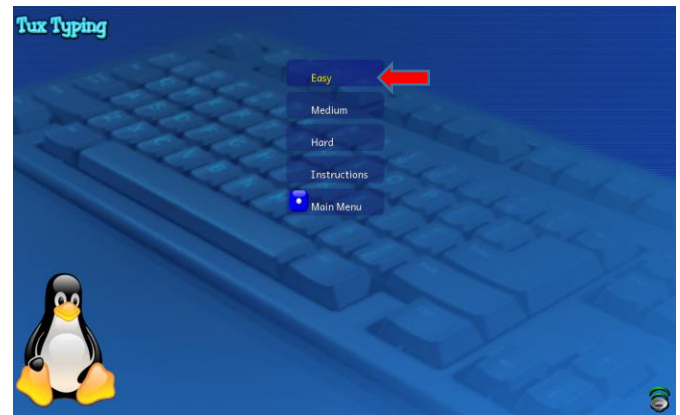
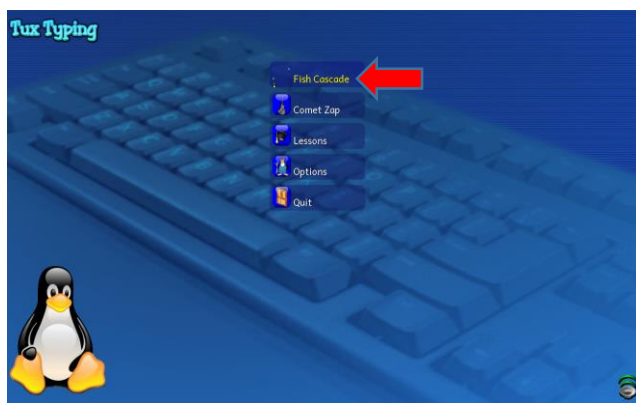
c) Lunes

Tarea
Computación
Martes 9 de abril del 2024

Tarea:

Pide a papá o mamá que te descarguen Tux Typing: <https://tux-typing.uptodown.com/windows/descargar>

Practica en Tux Typing y tu teclado los colores en inglés.



Nota: para salir de juego oprime la tecla ESC en tu teclado 2 veces

- Envía una captura de tu actividad como evidencia de tarea.

Tarea Artes
1° primaria
Martes 9 de abril de 2024

Tarea:

En una hoja o en tu cuaderno dibuja un fondo o paisaje para el siguiente dibujo, ya que lo termines colorea y recorta la imagen del oso y pégala sobre tu fondo ya debidamente terminado.



- Sube una imagen de tu trabajo terminado a la plataforma de tareas de arte.

1A PRIMARIA
ENGLISH

Tuesday April 9th, 2024

Answer exercise 4 of page 191 of your Learning Log, (responde el ejercicio 4 de la página 191, ordena las palabras y escríbelas).

4 Unscramble the words and write them.



Below the candle is a box containing the scrambled letters 'lckw' and a 4x5 grid for writing the word.

Below the taxi is a box containing the scrambled letters 'xatf' and a 4x5 grid for writing the word.

Thursday April 11th, 2024

Homework

Answer exercise 2 of page 201 of your Learning Log (responde el ejercicio 2 de la página 201 de tu Diario de Aprendizaje y escribe las palabras correctas con las letras proporcionadas).

2 Write the correct words with the letters provided.

Letters provided: c h a n r m a l i o b x

Below the first set of letters is a 4x5 grid for writing a word.

Below the second set of letters is a 4x5 grid for writing a word.