

TAREAS DE PUNTOS EXTRAS

Lunes 12 de febrero del 2024
Matemáticas

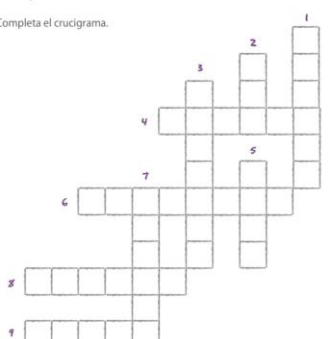
TAREA: Realiza de tu diario de aprendizaje apartado **Evaluación** las páginas: 218- 219.

APOYO: <https://youtu.be/pOm1azhMuYM?feature=shared> fracción a decimal

Matemáticas

Realiza lo que se solicita.

1. Completa el crucigrama.



Verticales

- Es el tiempo que transcurrió de 2007 al 2017.
- Está conformado por 24 horas.
- Es lo que dura parpadear dos veces.
- Está compuesta por 60 minutos.
- Desde que entraste a la primaria hasta que concluyas 5º, habrá transcurrido un...

Horizontales

- Es mayor que un día y menor que un mes.
- Del nacimiento de Cristo a la actualidad han pasado dos...
- Está conformado por 60 segundos.
- Está conformado por 10 décadas.

3. Escribe si la fracción es propia o decimal.

$\frac{1}{2}$ es una fracción _____

$\frac{3}{10}$ es una fracción _____

$\frac{24}{100}$ es una fracción _____

2. Encuentra la constante de las siguientes sucesiones geométricas y complétalas para que cada una tenga cinco términos.

9, 27, _____
Constante: _____

20, 40, 80, _____
Constante: _____

5, 20, _____
Constante: _____

© UNICEF

4. Une las fracciones decimales con su equivalente.

$\frac{45}{100}$	0.209
$\frac{45}{10}$	0.567
$\frac{723}{10}$	7.23
$\frac{723}{100}$	4.5
$\frac{567}{1000}$	5.67
$\frac{209}{10}$	72.3
$\frac{567}{100}$	20.9
$\frac{209}{1000}$	0.45

5. Lee y responde. Haz tus operaciones en los recuadros.

La mamá de Carolina necesita reunir 57 890 puntos en su tarjeta de compras para adquirir una batería de cocina; sin embargo, solo tiene 34 567.

¿Cuántos puntos le faltan para reunir la cantidad que necesita?

¿Qué operación debe realizar para responder la pregunta anterior?


Para reunir la cantidad de puntos que le faltan, la mamá de Carolina está en una tienda de muebles. Por una silla, le darían 11 650 puntos y, por un perchero, 11 720.

Si compra ambos, ¿puede completar los puntos que le faltan?

¿Qué operación debe realizar para responder la pregunta anterior?

6. Completa la tabla multiplicando.

X	3456	7552	1237	2544
4				
30				



© UNICEF



Martes 13 de febrero del 2024
Geografía

TAREA: Realiza de tu diario de aprendizaje apartado Evaluación páginas: 226 – 227.

Geografía

Realiza lo que se solicita.

1. Marca una ✓ en la respuesta correcta.

¿Cuántos ríos importantes tiene México?

Más de 85
 2
 7

¿Por qué el territorio mexicano es bioceánico?

Sus dos océanos son extensos.
 Al este lo limita el océano Pacífico y al oeste el Atlántico.
 Porque tiene dos golfos de agua salada.

¿En qué lugares de México se forman los lagos más importantes por la superficie que ocupan?

En las cumbres de las montañas
 En las depresiones del interior del territorio
 En las llanuras frente al mar

¿En qué parte de México se localizan sus golfos?

En Durango y Zacatecas
 Frente a Quinta Roo
 A lo largo de Tamaulipas y hasta Yucatán, y entre los estados de Sonora, Baja California y Baja California Sur

2. Completa la tabla y luego colorea cada entidad en el mapa.

Entidades con alta densidad de población	Entidades con baja densidad de población

3. Escribe baja densidad poblacional o alta densidad poblacional donde corresponda.

a. En las ciudades hay una gran cantidad de personas viviendo en edificios. c. Hay 100 personas en 25 kilómetros cuadrados.

b. En el rancho Derramadero las viviendas están muy alejadas entre sí. d. Hay 1000 personas en 1 kilómetro cuadrado.

226

4. Completa la tabla.

Características	Espacio rural	Espacio urbano
Transporte	Pocas opciones	
Vivienda		Concentrada
Población		Alta densidad
Educación		Diversidad de niveles
Servicios básicos	Insuficiente	Abundante

5. Completa el diagrama.

Tipos de migración

Inferna

Ejemplo: Al Estado de México, Ciudad de México y Veracruz llega una gran cantidad de mexicanos que residen en otras entidades.

6. Representa el flujo de migración del ejercicio 5.

Escribe Sí o No en la casilla correspondiente.

	Desde...	Antes del Ciclo de aprendizajes	Después del Ciclo de aprendizajes
reconocer la distribución de ríos, lagos, golfos y mares en México.			
reconocer la distribución de la población en México.			
describir la migración interna y externa en México.			

227

Miércoles 14 de febrero del 2024
Historia

Tarea: Realiza del diario de aprendizaje apartado Evaluación las páginas: 228 – 229.

APOYO: https://youtu.be/9vbjdSmxW_A?feature=shared conquista de México – Tenochtitlán.

Historia

Lee las instrucciones y haz lo que se indica.

1. Rodea las palabras que muestran la problemática de la población indígena actual.

lengua pobreza tradición educación artesanía
migración música desigualdad cultura actividades
deserción riqueza convivencia discriminación legado

2. Obtenga el mapa y anota en la leyenda el año en que se realizó cada expedición.

3. Relaciona las columnas.

a. Francisco Hernández de Córdoba Conquistó México-Tenochtitlán.
b. Juan de Grájalo Exploró la península de Yucatán.
c. Hernán Cortés Exploró Yucatán y el Golfo de México.

228

4. Ordena los hechos de manera cronológica en la línea de tiempo.

a. Expedición de Juan de Grájalo d. Matanza del Templo Mayor
b. Conquista de México-Tenochtitlán e. Expedición de Hernández de Córdoba
c. Llegada de Cortés a Veracruz f. Sitio de México-Tenochtitlán

5. Marca con una ✓ las causas de la conquista de México-Tenochtitlán.

Alianza de los pueblos sometidos por el imperio mesca Propagación de las epidemias de viruela, sifil y salmonelosis.
 Superioridad del ejército mesca Unión de la Triple Alianza

6. Subraya las condiciones que favorecieron la Conquista.

a. La alianza con los mexicas y la epidemia de viruela
b. La división entre los indígenas y las creencias de los españoles
c. La epidemia de gripe y la alianza con los pueblos indígenas
d. El resentimiento contra los mexicas y la superioridad de las armas españolas

Escribe Sí o No en la casilla correspondiente.

	Desde...	Antes del Ciclo de aprendizajes	Después del Ciclo de aprendizajes
reconocer las artesanías y los trajes de los pueblos indígenas en la actualidad.			
explicar las características de la conquista de México-Tenochtitlán.			
explicar el proceso de colonización española.			

229



Jueves 15 de febrero del 2024
Matemáticas

TAREAS: Realiza las siguientes multiplicaciones básate en tu cuaderno de clase y recuerda que tú puedes.

EJERCICIOS

Resuelve correctamente cada una de las siguientes multiplicaciones de dos cifras.

A

$$\begin{array}{r} 14454 \\ \times 56 \\ \hline \end{array}$$

B

$$\begin{array}{r} 8963 \\ \times 22 \\ \hline \end{array}$$

C

$$\begin{array}{r} 963 \\ \times 13 \\ \hline \end{array}$$

D

$$\begin{array}{r} 25368 \\ \times 48 \\ \hline \end{array}$$

Viernes 16 de febrero del 2024
Matemáticas

TAREA: Realiza en tu cuaderno de clase las siguientes sumas de tres sumandos, recuerda lo practicado en clase.

$\begin{array}{r} 532 \\ 397 \\ + 717 \\ \hline \end{array}$	$\begin{array}{r} 764 \\ 856 \\ + 377 \\ \hline \end{array}$	$\begin{array}{r} 171 \\ 853 \\ + 574 \\ \hline \end{array}$	$\begin{array}{r} 893 \\ 276 \\ + 663 \\ \hline \end{array}$
--	--	--	--

$\begin{array}{r} 895 \\ 642 \\ + 171 \\ \hline \end{array}$	$\begin{array}{r} 365 \\ 696 \\ + 331 \\ \hline \end{array}$	$\begin{array}{r} 685 \\ 134 \\ + 355 \\ \hline \end{array}$	$\begin{array}{r} 771 \\ 114 \\ + 288 \\ \hline \end{array}$
--	--	--	--





$$\begin{array}{r} 132 \\ 195 \\ + 635 \\ \hline \end{array}$$

$$\begin{array}{r} 592 \\ 435 \\ + 971 \\ \hline \end{array}$$

$$\begin{array}{r} 249 \\ 336 \\ + 188 \\ \hline \end{array}$$

$$\begin{array}{r} 817 \\ 119 \\ + 933 \\ \hline \end{array}$$

$$\begin{array}{r} 758 \\ 938 \\ + 561 \\ \hline \end{array}$$

$$\begin{array}{r} 192 \\ 714 \\ + 414 \\ \hline \end{array}$$

$$\begin{array}{r} 794 \\ 717 \\ + 477 \\ \hline \end{array}$$

$$\begin{array}{r} 668 \\ 616 \\ + 865 \\ \hline \end{array}$$




TAREAS DE PUNTOS EXTRAS

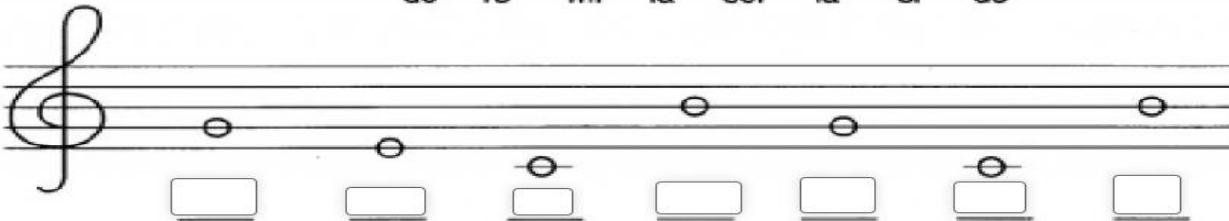
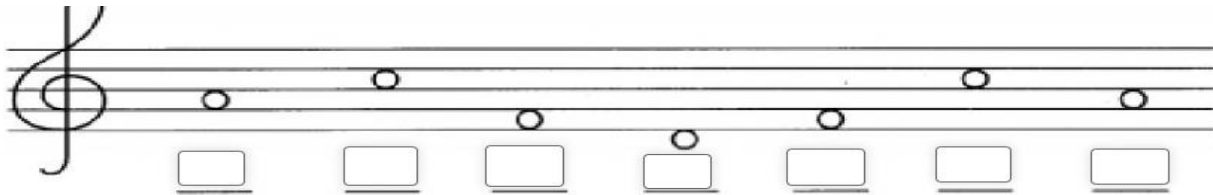
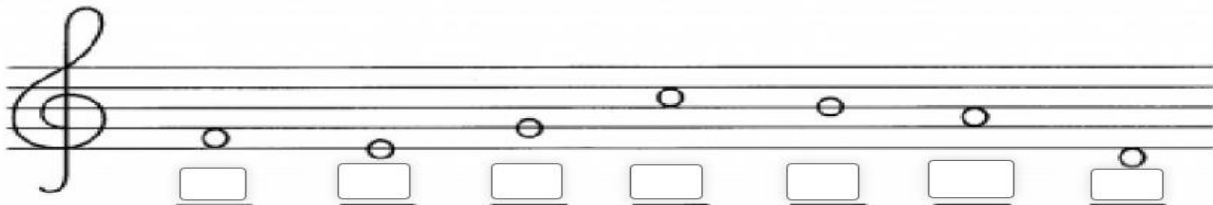
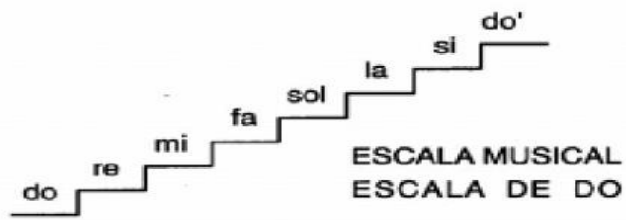
Martes 13 de febrero de 2024

Tarea: Observa la escala y ubica las notas poniendo el nombre que corresponda en cada cuadrado. Envía una captura como evidencia de tarea.

Fixate en las notas de la escala de Do y pon el nombre a las notas:



do re mi fa sol la si do'

4° PRIMARIA
COMPUTACIÓN

TAREAS DE PUNTOS EXTRAS

Martes 13 de febrero del 2024

Copia o imprime, pega en tu cuaderno y realiza la siguiente actividad.

REPASO POWERPOINT

1. Símbolo que identifica a PowerPoint:



2. Según la imagen ¿Cómo se le llama?

a) Diapositiva

b) Pagina

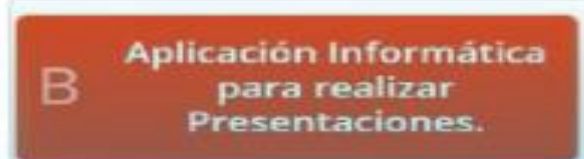
c) Escenario de trabajo



3. Una presentación de PowerPoint incluye:



4. PowerPoint es:



**4TH GRADE
ENGLISH**

Monday February 12th, 2024

Review Activity

In your notebook, write a brief summary (resumen) about the Aztec civilization, which includes:

- 1.- When and where the Aztec Civilization settled in Mexico.
- 2.- Aztec social organization
- 3.- What were the main economic activities.
- 4.- How were the daily lives and beliefs of life.

Additional Resources

- Learning Log #1, pages 261, 262, 279, and 280

Tuesday February 13th, 2024

Review Activity

In your notebook, write 5 examples of words that contain prefixes, and 5 examples of words that contain suffixes.

Additional Resources

- Learning Log #2, page 27

Wednesday February 14th, 2024

Review Activity

In your notebook write a letter to your best friend, which includes the 4 types of sentences we learned in class. Remember to use proper capitalization and punctuation.

Additional Resources

- Learning Log #1, pages 136 and 137

Thursday February 15th, 2024

Review Activity

In your notebook, write a brief summary about Digestive System which includes:

- 1.- The organs that are part of the digestive system.
- 2.- Explain the stages of the digestive process.

Additional Resources

- Learning Log #1, 264, 265, 266, 282, and 283.

Friday February 16th, 2024

Review Activity

Let's practice reading time on a clock. Play the following game as many times as you wish; send a screenshot or picture to LMS: <https://wordwall.net/play/68232/860/367>.