

Matemáticas
Miércoles 7 de febrero del 2024

Tarea:

Diario de Aprendizaje apartado Matemáticas, realiza lo que se te indica, páginas: 106 y 107

Nota: Escribe fecha y nombre completo a tu tarea.

Ejercitación

La resta

1 Escribe el número que se representa y resuelve las restas.



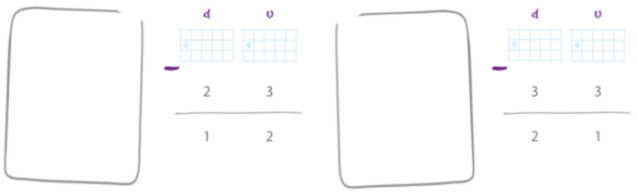
2 Haz las restas y tacha en las imágenes las cantidades que quitas.



Resuelve problemas aditivos (suma sin transformación) hasta decenas.


106

3 Representa y escribe el número que falta. Tacha en tu dibujo la cantidad que debes quitar.



4 Resuelve el problema.

Lalo le regaló a Manuel 23 canicas de las 67 que tenía.
¿Cuántas canicas le quedaron a Lalo?



Dafes	$\begin{array}{r} 4 \\ - \\ \hline \end{array}$	$\begin{array}{r} u \\ - \\ \hline \end{array}$	Resfa	$\begin{array}{r} 4 \\ - \\ \hline \end{array}$	$\begin{array}{r} u \\ - \\ \hline \end{array}$
Lalo tenía	$\begin{array}{r} 4 \\ - \\ \hline \end{array}$	$\begin{array}{r} u \\ - \\ \hline \end{array}$	Canicas	$\begin{array}{r} 4 \\ - \\ \hline \end{array}$	$\begin{array}{r} u \\ - \\ \hline \end{array}$
Regaló a Manuel	$\begin{array}{r} 4 \\ - \\ \hline \end{array}$	$\begin{array}{r} u \\ - \\ \hline \end{array}$	Canicas	$\begin{array}{r} 4 \\ - \\ \hline \end{array}$	$\begin{array}{r} u \\ - \\ \hline \end{array}$
Resultado:	A Lalo le quedaron $\begin{array}{r} 4 \\ - \\ \hline \end{array}$ canicas.				


Matemáticas

107

Tuesday February 6th, 2024

Answer exercise 2 of page 122 of your Learning Log, (responde el ejercicio 2 de la página 122 y pega o dibuja los tipos de casas que puedes encontrar en tu vecindario).

2) Paste the kind of houses you can find in your neighborhood.




	


Thursday February 8th, 2024

Homework

Answer exercise 1 of page 131 of your Learning Log (responde el ejercicio 1 de la página 131 de tu Diario de Aprendizaje, piensa acerca de cómo te sientes en tu hogar y en otro tipo de hogares. Dibuja como te sientes en el siguiente espacio. Después, escribe tres palabras para describir tu dibujo).

1) Think about how you feel in your home and other kinds of homes. Draw how you feel below. Then, write three words to describe your drawing.

	1.	<input type="text"/>
	2.	<input type="text"/>
	3.	<input type="text"/>

Tarea Artes
1° de primaria
Martes 6 de febrero de 2024

Tarea:

Busca en tu casa dos objetos que tengan diferente textura, dibújalos en tu cuaderno y describe brevemente cómo se sienten al tacto.

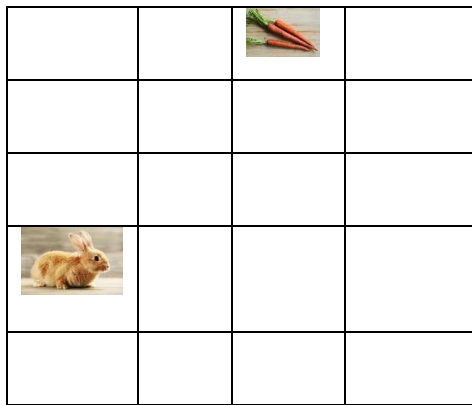
- Sube una imagen de tu trabajo terminado a la plataforma de actividades de arte.

Tarea Computación
1° de Primaria
Martes 6 de febrero del 2024

Tarea:

Imprime y pega o copia en tu cuaderno la siguiente actividad

Observa y contesta la pregunta



Códigos
AD = adelante
AT = Atrás
I= Izquierda
D= Derecha

Ruta 1
3AD
1AT
I
3AD

Ruta 2
2AD
I
1AD
I
2AD

¿Qué ruta debe tomar el conejo para llegar a las zanahorias?
