

Lunes 4 de diciembre del 2023
Matemáticas

TAREA: Realiza en tu cuaderno de matemáticas las siguientes sumas, cópialas y resuelve cada una de ellas. **No te olvides de las llevadas ¡Tú puedes!**

$\begin{array}{r} 73 \\ 68 \\ + 39 \\ \hline \end{array}$	$\begin{array}{r} 39 \\ 74 \\ + 45 \\ \hline \end{array}$	$\begin{array}{r} 85 \\ 41 \\ + 38 \\ \hline \end{array}$	$\begin{array}{r} 89 \\ 78 \\ + 97 \\ \hline \end{array}$
-----------------------------------------------------------	-----------------------------------------------------------	-----------------------------------------------------------	-----------------------------------------------------------

$\begin{array}{r} 59 \\ 99 \\ + 58 \\ \hline \end{array}$	$\begin{array}{r} 45 \\ 93 \\ + 26 \\ \hline \end{array}$	$\begin{array}{r} 37 \\ 38 \\ + 96 \\ \hline \end{array}$	$\begin{array}{r} 72 \\ 57 \\ + 59 \\ \hline \end{array}$
-----------------------------------------------------------	-----------------------------------------------------------	-----------------------------------------------------------	-----------------------------------------------------------



$\begin{array}{r} 59 \\ 44 \\ + 39 \\ \hline \end{array}$	$\begin{array}{r} 64 \\ 29 \\ + 53 \\ \hline \end{array}$
-----------------------------------------------------------	-----------------------------------------------------------

NOTA: Repasa las tablas de multiplicar del 2 al 7



Martes 5 de diciembre del 2023
Escritura

TAREA: Lee y transcribe la siguiente lectura en tu cuaderno español, trata de hacer tu mejor esfuerzo en tu trazo y limpieza, deberás usar el **color rojo para mayúsculas, comas, acentos, signos y puntos.** Recuerda como lo hacemos en clase



Irene, la iguana invisible.

En la India hay una isla en la que vivió Irene, una iguana inventora.

Cierto invierno, Irene inventó una pócima increíble que le permitía hacerse invisible. Sin que nadie la mirara, la iguana Irene viajó feliz por toda la inmensa isla.

La traviesa Irene a todos hizo cosquillas, los pellizcó y los despeinó sin que ninguno la viera. Pero el tiempo pasaba e Irene seguía invisible, y aunque lo intentó, no pudo inventar otra poción que la hiciera visible de nuevo.















Y así Irene, la iguana inventora se quedó invisible para siempre haciendo traviesas cosas a la interesante gente de esa isla de la India.



Miércoles 6 de diciembre del 2023
Lectura

TAREA: Lee la siguiente lectura con pictogramas en casa. Mamá te estará tomando el tiempo en que terminas de leer. Imprime y pega en tu cuaderno español rayas y escribe el tiempo que hayas tardado en leerla.

LA LIEBRE Y LA TORTUGA

Había una vez una  muy orgullosa y vanidosa que no cesaba de pregonar que era el animal más veloz del  y se pasaba el día burlándose de la lentitud de la . Un día, a la tortuga se le ocurrió una idea: organizar una carrera. La , muy segura de sí misma, aceptó y todos los animales se reunieron para presenciar la carrera. El  era el responsable de señalar los puntos de salida y de llegada. La liebre salió corriendo y la  se quedó atrás, tosiendo y envuelta en una  de polvo. Cuando empezó a andar, la  ya se había perdido de vista. Sin importarle la ventaja que tenía la liebre sobre ella, la  seguía su ritmo, sin parar. Mientras, confiando en que su competidora tardaría en alcanzarla, la liebre se paró ante la sombra de un . Allí se quedó , mientras la tortuga seguía caminando sin detenerse. No se sabe cuánto  se quedó dormida, pero cuando se despertó, vio que la tortuga se encontraba a tres  de la meta. Corrió con todas sus fuerzas, pero ya era tarde:  había ganado la carrera.

guiainfantil.com



Jueves 7 de diciembre del 2023
Matemáticas

TAREA: Transcribe en tu cuaderno matemáticas las tablas del 2 al 7.

Repasa las tablas de multiplicar del 2 al 7.

Dirás en la clase del día lunes 11 de diciembre las que ya tengas practicadas

TABLA DEL 1	TABLA DEL 2	TABLA DEL 3	TABLA DEL 4
1 X 1 = 1	2 X 1 = 2	3 X 1 = 3	4 X 1 = 4
1 X 2 = 2	2 X 2 = 4	3 X 2 = 6	4 X 2 = 8
1 X 3 = 3	2 X 3 = 6	3 X 3 = 9	4 X 3 = 12
1 X 4 = 4	2 X 4 = 8	3 X 4 = 12	4 X 4 = 16
1 X 5 = 5	2 X 5 = 10	3 X 5 = 15	4 X 5 = 20
1 X 6 = 6	2 X 6 = 12	3 X 6 = 18	4 X 6 = 24
1 X 7 = 7	2 X 7 = 14	3 X 7 = 21	4 X 7 = 28
1 X 8 = 8	2 X 8 = 16	3 X 8 = 24	4 X 8 = 32
1 X 9 = 9	2 X 9 = 18	3 X 9 = 27	4 X 9 = 36
1 X 10 = 10	2 X 10 = 20	3 X 10 = 30	4 X 10 = 40

TABLA DEL 5	TABLA DEL 6	TABLA DEL 7	TABLA DEL 8
5 X 1 = 5	6 X 1 = 6	7 X 1 = 7	8 X 1 = 8
5 X 2 = 10	6 X 2 = 12	7 X 2 = 14	8 X 2 = 16
5 X 3 = 15	6 X 3 = 18	7 X 3 = 21	8 X 3 = 24
5 X 4 = 20	6 X 4 = 24	7 X 4 = 28	8 X 4 = 32
5 X 5 = 25	6 X 5 = 30	7 X 5 = 35	8 X 5 = 40
5 X 6 = 30	6 X 6 = 36	7 X 6 = 42	8 X 6 = 48
5 X 7 = 35	6 X 7 = 42	7 X 7 = 49	8 X 7 = 56
5 X 8 = 40	6 X 8 = 48	7 X 8 = 56	8 X 8 = 64
5 X 9 = 45	6 X 9 = 54	7 X 9 = 63	8 X 9 = 72
5 X 10 = 50	6 X 10 = 60	7 X 10 = 70	8 X 10 = 80


Viernes 8 de diciembre del 2023
Matemáticas

TAREA: Imprime la siguiente hoja de problemas razonados y pega en tu cuaderno matemáticas.
Resuelve ¡Tú puedes!

7. Un edificio tiene 50 ventanas de la cuales 36 están cerradas. ¿Cuántas ventanas están abiertas?

Suma Resta


Operación: Resultado:



8. Lucas tiene 34 canicas, su hermana Marta 18 y su primo Hugo 46. ¿Cuántas canicas tienen entre los tres?

Suma Resta


Operación: Resultado:




9. Me estoy leyendo un libro que tiene 82 páginas. Ya me he leído 48. ¿Cuántas páginas me quedan por leer?

Suma Resta

Operación: Resultado:



Actividades de Infantes y Primaria 

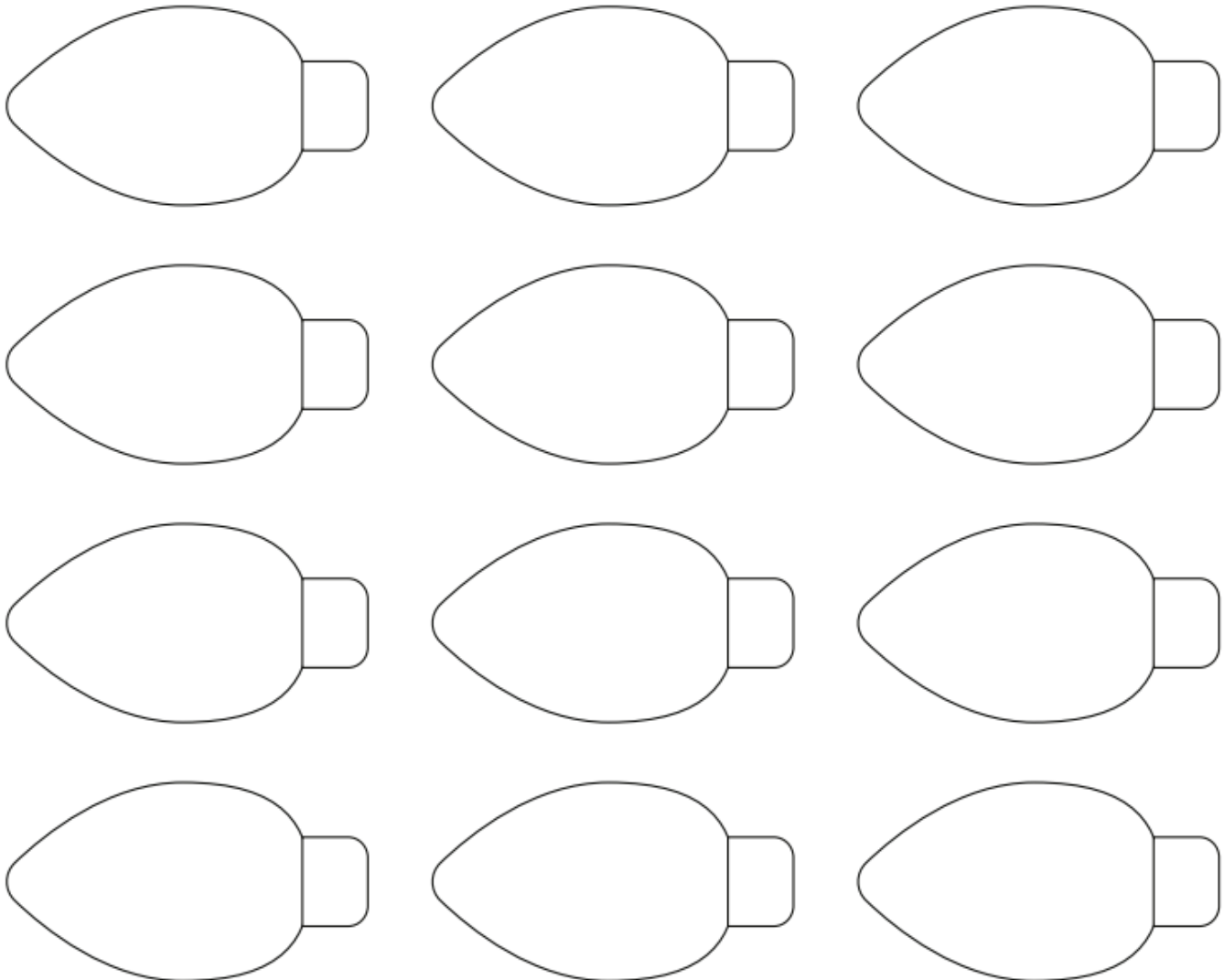
NOTA: Sigue repasando las tablas de multiplicar



**ARTES
2° PRIMARIA**

Martes 5 de diciembre del 2023

Tarea: Colorea y recorta los foquitos.



Los debes llevar a la próxima clase junto con 1 hilo o estambre de aproximadamente metro y medio.

Sube una imagen de los foquitos coloreados a la plataforma de tareas de arte.

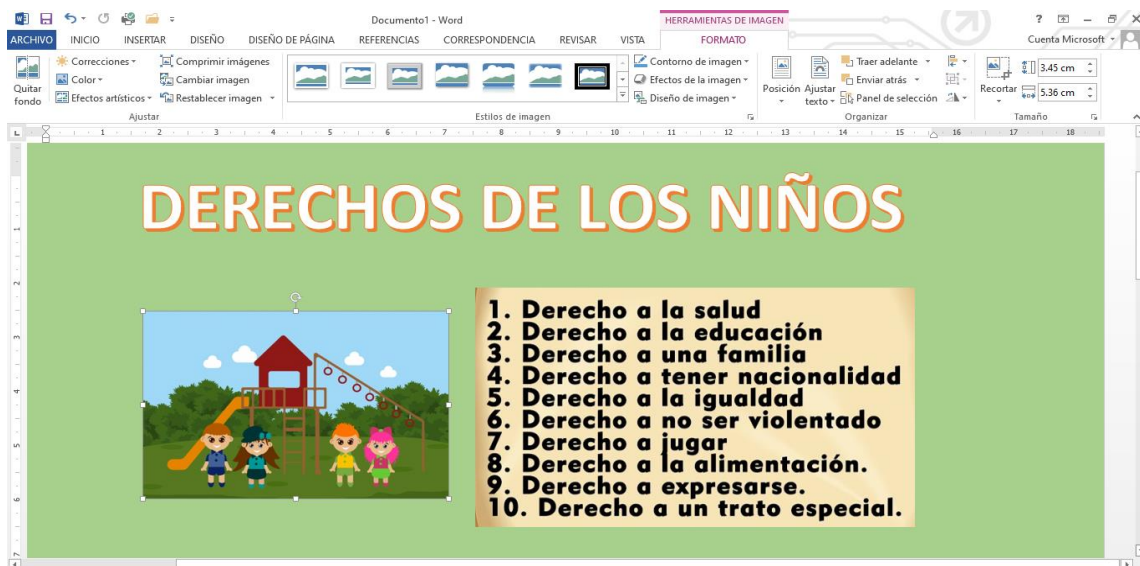


**2° PRIMARIA
COMPUTACIÓN**

Martes 5 de diciembre del 2023

Accede a Word y diseña un pequeño cartel Tema: Derechos de los niños.

Ejemplo



2ND GRADE ENGLISH

Monday December 4th, 2023

Homework

Print or copy the following activity on your notebook, and complete it by counting by 2's.

2	4		8		12		
				26	28	30	
	36	38				46	48
		54	56		60	62	

Tuesday December 5th, 2023

Homework

Print copy the following activity on your notebook and complete it. This is a review about the digestive system.

2nd Grade - Digestive System

Lucy is at the doctors'. Help her tell the doctor what's wrong. Choose one word for each gap.

intestines esophagus mouth stomach

DOCTOR: Ok Lucy, tell me, what hurts?

LUCY: Here! I was eating and when the sandwich passed from my to my, my...

DOCTOR:

LUCY: Yes, the tube that carries food. And now my hurts!!!

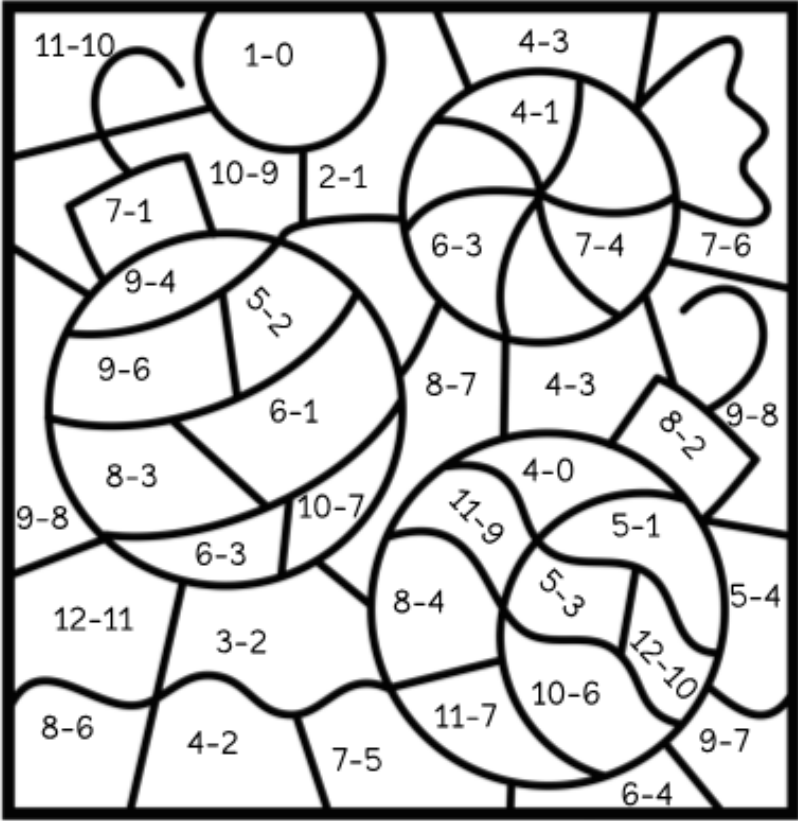
DOCTOR: Ok, don't worry it can be your stomach or your but this medicine will help you.

Wednesday December 6th, 2023

Homework

Print and paste or copy in your **Math notebook** the following worksheet and complete it.







2nd Grade - Subtraction



Blue-1	Red-3	Green-5
Orange-2	Purple-4	Yellow-6

Homework

Let's continue practicing vocabulary related to animals. Complete the following worksheet by drawing the animals mentioned. If you need to, you can play last week's game again to remember: <https://wordwall.net/play/64522/542/691>.

C&HTS 2nd Grade - Animals match game		
Date: _____	Name: _____	
1. butterfly	2. crab	3. dog
		
4. dolphin	5. fish	6. pig
		

Friday December 8th, 2023

Homework

Let's practice **like**. In your notebook, write 3 sentences about what toys you like, and make a drawing for each.

Additional Resources:

- Here is an example:

I like dolls.

