

Lunes 27 de noviembre del 2023
Habilidades del pensamiento

TAREA: ¿Por qué funcionan las cosas?

De tu diario de aprendizaje apartado habilidades del pensamiento te volverás un detective para ello harás lo siguiente:

Ve a la página **276** de tu diario de aprendizaje y sigue los pasos, realizarás dos lupas como la de la página la recortarás y la calcarás en cartulina para obtener dos, retirarás la parte del centro donde va el lente de las dos lupas a una le pegarás papel celofán verde y a la otra papel celofán rojo en la parte del lente. **(Las lupas tendrán que quedar resistentes para un mejor manejo de ellas).**

La llevarás a la escuela el día **jueves 30 de noviembre para convertirte en un detective.**

APOYO:



Transforma tu mente

¿Por qué funcionan las cosas?

10 Hoy te convertirás en detective. Para ello, haz lo siguiente:

- Primero, calca dos veces esta lupa.
- Recorta cada lupa por la línea punteada; también retira el centro, donde debe quedar la lente.
- En una pega papel celofán **verde** como si fuera la lente.
- En la otra pega papel celofán **rojo**.
- A continuación, realiza con tus compañeros una visita a las instalaciones de la escuela.
- Observa los distintos objetos y mecanismos que señale tu profesor y que llamen tu atención.
- Utiliza cada lupa según este código:
Verde: soy capaz de explicar por qué funciona así.
Rojo: tengo dudas.

11 Anota un ejemplo de algo que observaste con cada lupa.

Lupa roja:

Lupa verde:



© JUNCO

Conoce y usa distintas estrategias para determinar las causas de una situación.

276

Martes 28 de noviembre del 2023
Matemáticas

TAREA: Transcribe en tu cuaderno matemáticas los siguientes problemas razonados y resuélvelos, piensa bien que operación se realizará.

1.-Malena tiene en su colección 14 libros de princesas y 11 de hadas. ¿Cuántos libros tiene en total?

¿De quien habla el problema?	Operación.	Resultado
-------------------------------------	-------------------	------------------

2.- Tomás tenía 12 fotos de su mascota. Ayer sacó 5 fotos más.
¿Cuántas fotos tiene ahora en total?

¿De quien habla el problema?	Operación.	Resultado
-------------------------------------	-------------------	------------------

3. -Carolina juega a las cartas. En la primera ronda hizo 15 puntos y en la segunda 19 puntos más. ¿Cuántos puntos hizo en total?

¿De quien habla el problema?	Operación.	Resultado
-------------------------------------	-------------------	------------------

Miércoles 29 de noviembre del 2023
Escritura

TAREA: ¡Trabajemos juntos!

En casa mamá dictara 10 oraciones, las cuales realizarás en tu cuaderno de español clase, **recuerda que tú puedes solo así como lo haces en clase,** has tú mejor esfuerzo en letra y utiliza tu color rojo para mayúsculas, acentos y punto.

El bebé toma su leche todos los días.

Ñoño se asustó mucho con la araña.

Ulises se puso una bonita cachucha.

Aquella escuela está muy adornada.

Mi tío Tomás es un buen albañil.

La palma da unos cocos muy ricos.

Al niño le dieron un chupón de miel.

Paco se comió una rebanada de sandía.

Mi papá usa ese viejo serrucho café.

Berta tiene un llamativo moño rojo.

Jueves 30 de noviembre del 2023
Lectura

TAREA: Lee la siguiente fábula y contesta lo que se te pregunta, al finalizar pega en tu cuaderno de español rayas.

Nota: Lee tu solito y sube tu velocidad

¡Tú puedes lograrlo!

¿Quién es más fuerte?

Lee:

El Viento y el Sol


Discutían un día el Viento y el Sol acerca de cuál de los dos era el más fuerte cuando vieron pasar un hombre envuelto en una capa. El Viento se echó a reír y dijo:

—Se abraza a su capa como si fuera a perderla. No sabe que con solo soplar un poco, yo se la arrancaría. El Sol, entonces, le propuso ver quién de los dos podía quitarle la capa.

El Viento comenzó a soplar, cada vez con más furia. Pero, cuanto más fuerte lo hacía, más se envolvía el hombre con la capa. Por fin, el Viento se calmó y se declaró vencido.

Y entonces salió el Sol de entre las nubes y comenzó a entibiar suavemente la tierra y a acariciar al viajero con sus rayos. El hombre anduvo un poco y luego, se sacó la capa y la colgó en su brazo.

El Sol demostró entonces al Viento que la suavidad y el amor son más poderosos que la furia y la fuerza.



Responde:

¿Quiénes son los personajes de esta fábula? _____

¿Por qué discutían el Viento y el Sol? _____

¿Qué apuesta hicieron el Viento y el Sol? _____

¿Quién ganó la apuesta y cómo lo logró? _____

¿Qué nos enseña esta fábula? Explícalo con tus palabras. _____

Viernes 1 de diciembre del 2023
Matemáticas

TAREA: Transcribe en tu cuaderno matemáticas las siguientes multiplicaciones, tienes en tu cuaderno las tablas del 2 al 9 ahí te podrás apoyar si lo necesitas, recuerda como lo trabajamos en clase apóyate de las que ya hemos realizado.

APOYO: Cuaderno de trabajo en clase.

$\begin{array}{r} 223 \\ \times 67 \\ \hline \end{array}$	$\begin{array}{r} 567 \\ \times 11 \\ \hline \end{array}$	$\begin{array}{r} 653 \\ \times 23 \\ \hline \end{array}$
$\begin{array}{r} 987 \\ \times 33 \\ \hline \end{array}$	$\begin{array}{r} 604 \\ \times 70 \\ \hline \end{array}$	$\begin{array}{r} 764 \\ \times 36 \\ \hline \end{array}$
$\begin{array}{r} 764 \\ \times 55 \\ \hline \end{array}$	$\begin{array}{r} 827 \\ \times 32 \\ \hline \end{array}$	$\begin{array}{r} 632 \\ \times 73 \\ \hline \end{array}$

**ARTES
2° PRIMARIA**

Martes 28 de noviembre del 2023

Observa el siguiente video y sigue el ritmo con los valores que ya hemos visto, después copia en tu cuaderno la combinación rítmica de notas que más te haya agradado del video.

<https://youtu.be/6Dyf9BOdiWg?feature=shared>

Sube una imagen de tu trabajo terminado a la plataforma de tareas de arte.



**2° PRIMARIA
COMPUTACIÓN**

Martes 28 de noviembre del 2023

Accede a Word y diseña un pequeño cartel sobre una venta de un producto.

Ejemplo



**2ND GRADE
ENGLISH**

Monday November 27th, 2023

Homework

Let's practice the use of the articles "a" and "an". Click on the link and open it. Write your name, then, play the following game, as many times as you need. Send a screenshot to LMS.

<https://wordwall.net/play/64521/776/860>

Tuesday November 28th, 2023

Homework

Print and paste or copy in your **notebook** the following worksheet and complete it.

2nd Grade Homework - All About Me

This is what I look like:




My name is: _____

I am _____ years old.

I am a _____

run kick skate swim ride dance

I like to _____

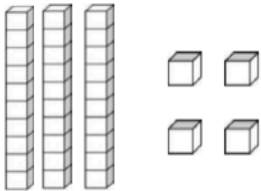


Homework

Print and paste or copy in your **Math notebook** the following worksheet and complete it.

2nd Grade Smart Mathematician Homework
Ones and Tens

Draw rods (tens) and blocks (ones) to represent the numbers shown.

$34 =$ 	$14 =$
$12 =$	$60 =$
$7 =$	$31 =$
$27 =$	$19 =$
$22 =$	$44 =$

Thursday November 30th, 2023

Homework

Let's practice vocabulary related to animals. Click on the link and open it. Write your name, then, play the following game, as many times as you need. Send a screenshot to LMS.










<https://wordwall.net/play/64522/542/691>

Friday December 1st, 2023

Homework

Print and paste or copy on your notebook, the following activity and complete it by tracing the words.

2nd Grade Homework - School Vocabulary

1	school school school	
2	teacher teacher	
3	book book book	
4	bus bus bus bus	
5	bag bag bag bag	
6	student student	
7	pencil pencil pencil	
8	ruler ruler ruler	
9	board board board	
10	chair chair chair	