

Habilidades Matemáticas
Lunes 23 de octubre del 2023

Tarea:

Diario de Aprendizaje páginas: 273, 274, 275

Nota: Escribe nombre completo y fecha en tu tarea.

Ejercicios preparatorios

5 Interpreta la información matemática de cada colección y completa.

Perros

Limpios	Sucios
---------	--------

$14 + 5 =$ _____
 $14 - 14 =$ _____
 $14 - 5 =$ _____

Canicas

Con franjas rojas	Con franjas verdes
-------------------	--------------------

$_____ + 16 =$ _____
 $49 - _____ =$ _____
 $49 - _____ = 33$

Habilidades matemáticas

273

Ejercicios preparatorios

6 Completa los gráficos y sus operaciones correspondientes. Fíjate en el ejemplo.

Balones de Fútbol

15	
Verdes con blanco 2	Azules con blanco 13

$15 - 2 = 13$

Balones de Fútbol americano

26	
Inflados 11	Desinflados

$26 - _____ =$ _____

Pelotas

Rosas 7	Azules 12
------------	--------------

$_____ - _____ =$ _____

Habilidades matemáticas

Resuelve problemas aditivos obteniendo información a partir de imágenes. Comprende la relación entre adición y sustracción.

274

Ejercicios preparatorios

7 Lee los problemas y completa los gráficos. Observa el ejemplo.

Mi papá me compró 22 caramelos. Me comí 12 y me quedan 10.

Caramelos

22	
Me comí 12	Quedaron 10

Tengo 40 pesos en billetes y 10 pesos en monedas. En total, tengo 50 pesos.

Total de dinero

50	
Billetes	Monedas

En un árbol había 46 manzanas. Se cayeron 14 manzanas y quedan 32.

Manzanas

Se cayeron 14	En el árbol
------------------	-------------

Habilidades matemáticas

275

Tarea:

Diario de Aprendizaje páginas: 186 y 187

Nota: Escribe nombre completo y fecha en tu tarea.

Practica

4 Une cada emoción con su descripción.

miedo	Sensación contraria a la alegría.
alegría	Sensación que nos alerta de la posible presencia de un peligro.
frustración	Sensación que experimentamos al sentirnos agredidos o tratados injustamente.
enojo	Sensación grata que nos hace sentir contentos.

5 Encuentra en la sopa de letras las palabras del recuadro. Después, responde.

a	r	d	s	d	f	x	u	m
q	a	l	e	g	r	i	a	i
b	s	b	n	f	i	m	m	e
a	o	e	o	i	s	l	d	d
g	m	g	j	b	f	a	v	o
c	b	h	o	m	e	j	f	x
p	r	i	f	h	z	l	k	y
o	o	n	n	z	a	s	c	o

¿Cuál de estas emociones experimentas con más frecuencia?

Ejercítate con Garo
Baila como si estuvieras muy contento. Luego, como si estuvieras cansado. ¿Notas la diferencia?

Reconoce sus emociones y respeta la forma en que sus compañeros las manifiestan.

186

6 Subraya las opciones correctas.

Respeto el miedo de un compañero cuando...

a. me burlo de él.

b. lo apoyo y le ofrezco mi ayuda.

La forma más adecuada de hacer notar mi enojo es...

a. respirar profundamente hasta calmarme.

b. hacer berrinche y gritar.

Al sentir miedo yo...

a. identifico qué lo provoca.

b. grito y lloro sin control.

Cuando estoy alegre en el salón...

a. grito muy fuerte.

b. rio sin gritar.

Aplico

7 Escribe qué emoción sentirías en las siguientes situaciones.

Hay un juego en equipo. Todos mis compañeros participan excepto yo.

Mis compañeros de clase me hicieron una fiesta sorpresa de cumpleaños.

8 Anota qué le dirías a un amigo en las siguientes situaciones.

Si se siente triste.

Si se siente enojado.

Bienestar y convivencia

187

Español
Miércoles 25 de octubre del 2023

Tarea:

Los artículos son palabras que van antes de los sustantivos y concuerdan en género y número: el, la, los, las.

Lee las palabras y escribe el artículo que le corresponde.

Nota: Imprime y pega la actividad en tu cuaderno en el apartado de tareas español. Escribe nombre completo y fecha en tu tarea.

Los artículos

___ anillo	___ carro
___ lápices	___ pelotas
___ casa	___ muñeca
___ vestido	___ mariposas
___ manzanas	___ cuadernos
___ dulces	___ mochila

**1A PRIMARIA
ENGLISH**

Tuesday October 24th, 2023

Homework

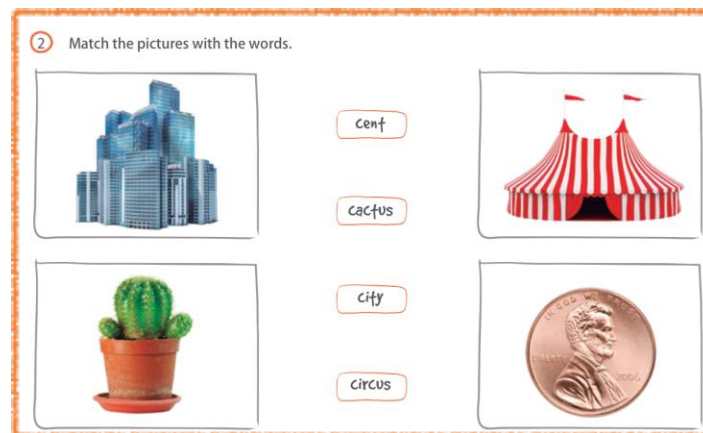
Answer exercise 2 of page 120 of your Learning Log (responde el ejercicio 2 de la página 120 de tu Diario de Aprendizaje y pega imágenes o dibuja lo que te hace sentir sorprendido, emocionado, enojado y asustado).



Thursday October 26th, 2023

Homework

Answer exercise 2 of page 125 of your Learning Log, (responde el ejercicio 2 de la página 125, relaciona las imágenes con las palabras).




Artes
1° de Primaria
24 de octubre de 2023

Tarea:

Imprime y lleva a la clase las siguientes hojas, así como un cuarto de pliego de cartulina del color de tu gusto.

- Colorea y recorta las imágenes de la hoja 2.
- Sube una imagen de lo arriba indicado.

Nota: Esta tarea la debes de llevar a la clase del día 31 de octubre, para trabajarlos en clase.



Entre flores, colores y
sabores.
Recordaremos



a los que ya no están,
pero entre alegrías, risas




y canciones sabemos que
nunca se irán.



Materiales Kitnet Curious


Pegar



Computación Martes 24 de octubre del 2023

Tarea:

Imprime o dibuja la siguiente actividad en tu cuaderno.
Recorta las letras y pégalas en el teclado, guíate con la imagen.



- Envía una captura como evidencia de tarea.