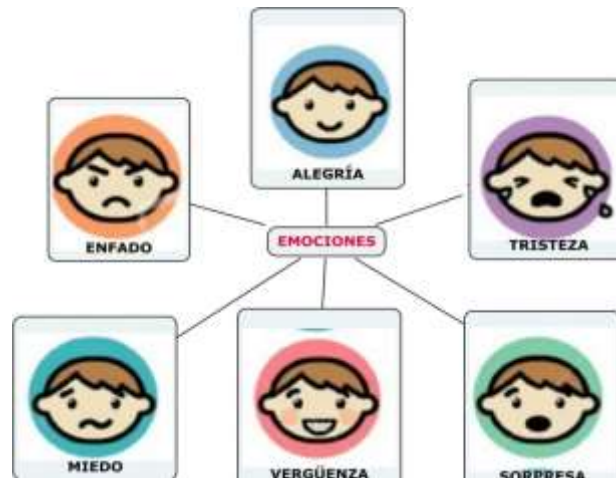


4° PRIMARIA
ESPAÑOL

Lunes 4 de septiembre del 2023
Habilidades emocionales

TAREA: Contestar las páginas 265 y 266 del diario de aprendizajes.

APOYO: <https://youtu.be/oq3TcqUvEts?si=vmgwpdg-dQPs8wle>



Martes 5 de septiembre del 2023
Habilidades emocionales

TAREA: Contestar las páginas 267 y 268 del diario de aprendizajes.

APOYO: <https://youtu.be/Gi4de8UBpo4?si=ujai2efq-dflrnky>



**Miércoles 6 de septiembre del 2023
Habilidades lectoras**

TAREA: Contestar las páginas 336 y 337 del diario de aprendizajes.
APOYO:



**Jueves 7 de septiembre del 2023
Habilidades lectoras**

TAREA: Contestar las páginas 338 y 339 del diario de aprendizajes.
APOYO:

-AR	-ER	-IR
amar	aprender	abrir
bailar	comer	asistir
caminar	comprender	compartir
cocinar	correr	decidir
comprar	responder	escribir
escuchar	romper	recibir
hablar	suceder	partir
trabajar	temer	permitir
viajar	vender	subir

TAREA: Contestar las páginas 350 y 351 del diario de aprendizajes.

APOYO:



Diferencias

- Las diferencias son una extensión de la observación que consiste en identificar las características en que difieren dos o más objetos o situaciones.

Semejanzas

- Las semejanzas se refieren a las características idénticas o similares de objetos o situaciones.

4º PRIMARIA ESPAÑOL

Viernes 8 de septiembre del 2023
PROYECTO

TAREA:

¿Qué haremos?

En esta Zona Maker vas a elaborar una lámpara de mano, para ello usarás materiales de reciclaje y otros que podrás encontrar fácilmente en la ferretería de tu casa. Al elaborarla armarás un circuito eléctrico sencillo y podrás utilizarla para imprimirle mayor dramatismo a tus leyendas a la hora de contarlas.

Objetivo: Conocerás cómo se forma un circuito eléctrico.

Materiales:

2 baterías AA

1 Foco de electrónica LED del color que gusten

Media metro de Cable negro y rojo calibre 22 (Traer el cable ya pelado como lo muestra la imagen)

Una botella PET de 600 ml

Este material lo llevarás el día 14 de septiembre a clases.



ARTES
4° PRIMARIA

Martes 5 de septiembre de 2023

Tarea: Observa la siguiente imagen



Es una imagen de objetos cotidianos que han sido intervenidos con elementos visuales, busca en tu casa algún objeto que te guste, dibújalo en tu cuaderno y también busca intervenirlo con colores o formas.

Sube una imagen de tu trabajo a la plataforma de tareas.

4° PRIMARIA COMPUTACIÓN

Martes 5 de septiembre del 2023

Imprime y pega o dibuja en tu cuaderno la ventana de Google y realiza lo que se te indica.

1. En el siguiente interfaz en la casilla de búsqueda escribe el tema independencia de México
2. En tu dispositivo realiza la búsqueda y accede al sitio de tu elección y explora.
3. Anota cuantos sitios buscó Google



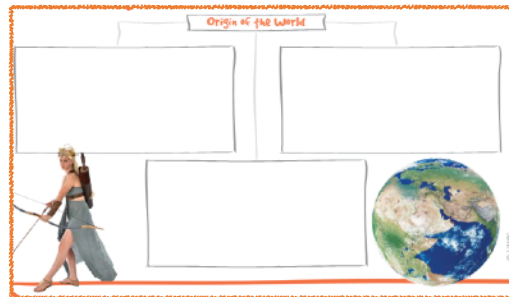
Envía una captura como evidencia de tarea.

**4TH GRADE
HOMEWORK**

Monday September 4th, 2023

Homework

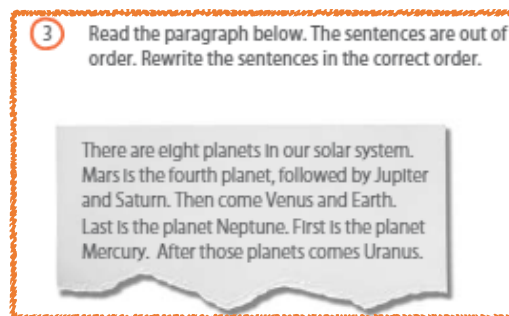
How was the world created? Complete exercise 2 on page 24 from your Learning Log. Write some ideas you have about it in the graphic organizer there.



Tuesday September 5th, 2023

Homework

Answer exercise 3 of page 26 of your Learning Log; on the space below the exercise, rearrange the sentences so that they are in the correct order.



3 Read the paragraph below. The sentences are out of order. Rewrite the sentences in the correct order.

There are eight planets in our solar system.
Mars is the fourth planet, followed by Jupiter and Saturn. Then come Venus and Earth.
Last is the planet Neptune. First is the planet Mercury. After those planets comes Uranus.

Wednesday September 6th, 2023

Homework

On your notebook, you pasted the lyrics to the song that we are learning right now, which is "You're Welcome". From there, underline 10 words that you don't know, and look for the definition; write the word and the definition in your notebook.

Additional Resources:

- Song: <https://www.youtube.com/watch?v=r4KTqce-9Z0>
- Dictionary: <https://kids.britannica.com/kids/browse/dictionary>

Homework

Print and paste, or copy the following exercises on your notebook and complete the exercises.

**4th Grade -
Place Value and Thousands**

1. Partition (split up) the following numbers into thousands, hundreds, tens, and ones, and complete the addition sentences.

- The first one has been done for you.

	Thousands		Hundreds		Tens		Ones
2,435 =	2,000	+	400	+	30	+	5
6,821 =							
5,728 =							

Additional Resources

- For help or reference, you can check page 186 of your Learning Log, on the **Smart Mathematician** section.

Friday September 8th, 2023

Homework

In your notebook, write the difference between joints and bones, and make a drawing of each of them as an example.

Additional Resources

- For help or reference, you can check pages 192 and 193, of your Learning Log, on the **Curious Scientist** section.